

TRƯỜNG TIỂU HỌC NAM HÀ

Họ và tên:

Lớp 1A.....

BÀI KIỂM TRA CUỐI NĂM


Năm học 2022-2023

Môn : **TOÁN 1**

Thời gian làm bài: 35 phút (Không kể thời gian phát đề)

Giáo viên chấm

Giáo viên coi:

	Điểm	Nhận xét
	
	
	

Câu 1. (1 điểm) Khoanh vào chữ cái đặt trước kết quả đúng

+ Số “ba mươi lăm” viết là:

A. 30

B. 303

C. 03

D. 35

+ Số 26 gồm mấy chục và mấy đơn vị?

A. 2 chục và 6 đơn vị

B. 6 chục và 2 đơn vị

C. 2 và 6

+ Số lớn nhất có 2 chữ số khác nhau là:

A. 99

B. 98

C. 89

D. 90

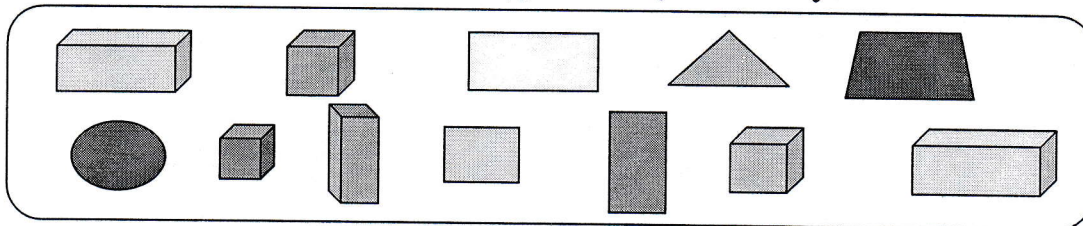
+ Số 53 được đọc là:

A. lăm mươi ba

B. năm ba

C. năm mươi ba

Câu 2. (1 điểm) + Có bao nhiêu khối hộp chữ nhật dưới đây?







A. 2

B. 3

C. 4

D. 5

+ Nói?



9 giờ

6 giờ

11 giờ

12 giờ

Câu 3. (1 điểm) Tính nhẩm

$11 + 4 - 5 = \dots\dots$

$12 - 2 + 3 = \dots\dots$

