

Người coi (Ký, ghi rõ họ tên)	Người chấm (Ký, ghi rõ họ tên)

### I. PHẦN TRẮC NGHIỆM (4 điểm)

Hãy khoanh vào chữ cái trước đáp án đúng

**Câu 1.** (0,5 điểm)

a) Trong các số: 5, 7, 6, 8 số lớn nhất là:

A . 7

B . 6

C . 8

D . 5

b) Trong các số: 6, 8, 4, 9 số bé nhất là:

A . 6

B . 4

C . 8

D . 9

**Câu 2.** (0,5 điểm) Các số 9, 3, 7, 1 được sắp xếp theo thứ tự từ lớn đến bé là:

A. 9, 7, 3, 1

B. 1, 3, 7, 9

C. 9, 3, 1, 7

D. 9, 7, 1, 3

**Câu 3.** (1 điểm) Đúng ghi đ, sai ghi s

$4 + 2 < 7$

$1 + 2 + 2 = 5$

$3 + 1 = 3$

$2 + 4 = 5 + 2$

**Câu 4.** (1 điểm) Kết quả của phép tính:

a)  $10 + 0$  là:

A . 4

B . 9

C . 10

D . 0

b.  $9 - 4 - 2$  là:



A. 2

B. 4

C. 3

D. 7

**Câu 5.** (1 điểm)Viết tiếp vào chỗ chấm:



a. Hình .....

b. Hình.....

c. Hìn.....

c. Hình.....

## II. PHẦN TỰ LUẬN (6 điểm)

**Bài 6** (1 điểm): Viết các số 7; 2; 8; 5

a) Theo thứ tự từ bé đến lớn: .....

b) Theo thứ tự từ lớn đến bé : .....

**Câu 7.** (1 điểm) Tính:

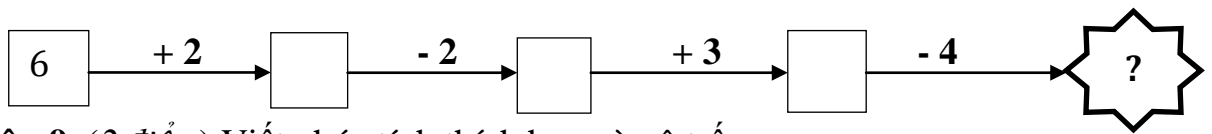
$3 + 5 = \dots\dots$

$4 + 5 + 1 = \dots\dots\dots$



$7 - 2 = \dots\dots$

$9 - 3 - 2 = \dots\dots\dots$

**Bài 8** (1 điểm) Số ?



**Câu 9.** (2 điểm) Viết phép tính thích hợp vào ô trống:

<p>a) </p>	<table border="1" style="width: 100%; height: 40px;"> <tr> <td style="width: 20%;"></td> <td style="width: 20%;"></td> <td style="width: 20%;"></td> <td style="width: 20%;"></td> <td style="width: 20%;"></td> </tr> </table>					
<p>b) </p>	<table border="1" style="width: 100%; height: 40px;"> <tr> <td style="width: 20%;"></td> <td style="width: 20%;"></td> <td style="width: 20%;"></td> <td style="width: 20%;"></td> <td style="width: 20%;"></td> </tr> </table>					

**Câu 10.** (1 điểm) Điền số thích hợp vào chỗ chấm:

Hình bên có:

- ..... hình tam giác.

- ..... hình vuông.

