



**Chào mừng các**  
**me**

**ĐẾN VỚI GIỜ HỌC  
MÔN TOÁN LỚP 5**

**Giáo viên: HOÀNG THỊ HẢO**


**BÀI: HỖN SỐ ( TIẾT 1 )**

**NGÀY DẠY: 25/9/2024**





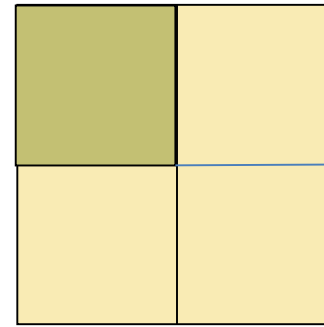
KHỎI  
ĐÔNG





Next

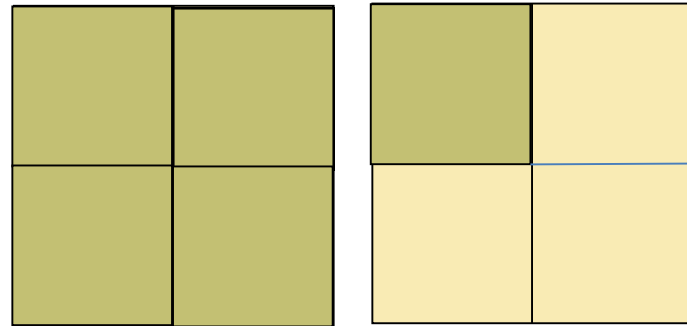
**Câu hỏi 1:**  
**Nêu phân số chỉ số phần**  
**đã tô màu**



**Câu trả lời:**  $\frac{1}{4}$



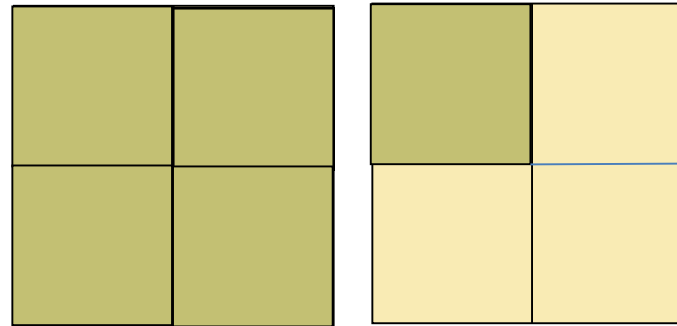
**Câu hỏi 2:**  
**Nêu phân số chỉ số phần**  
**đã tô màu**



**Câu trả lời:**  $\frac{5}{4}$



**Câu hỏi 3:  $\frac{5}{4}$  gồm  
mấy đơn vị và mấy phần ?**



**Câu trả lời: Gồm 1 đơn vị và  $\frac{1}{4}$**




Bài 7

# HỖN SỐ





KHÁM  
PHÁ



Nếu chia đều 5 cái bánh cho 4 bạn thì mỗi bạn được mấy phần cái bánh nhỉ?

Nếu mỗi đứa mình lấy một cái bánh thì còn thừa lại một. Chúng mình chia đều cái bánh còn thừa thành 4 phần là được.

Vậy mỗi bạn sẽ được 1 cái bánh và  $\frac{1}{4}$  cái bánh



1 và  $\frac{1}{4}$  viết gọn là  $1\frac{1}{4}$ ; vậy  $1\frac{1}{4}$  được gọi là gì?

- $1$  và  $\frac{1}{4}$  viết gọn là  $1\frac{1}{4}$
- $1$  và  $\frac{1}{4}$  là hỗn số, đọc là *một và một phần tư*.
- $1\frac{1}{4}$  có phần nguyên là  $1$  và phần phân số là  $\frac{1}{4}$

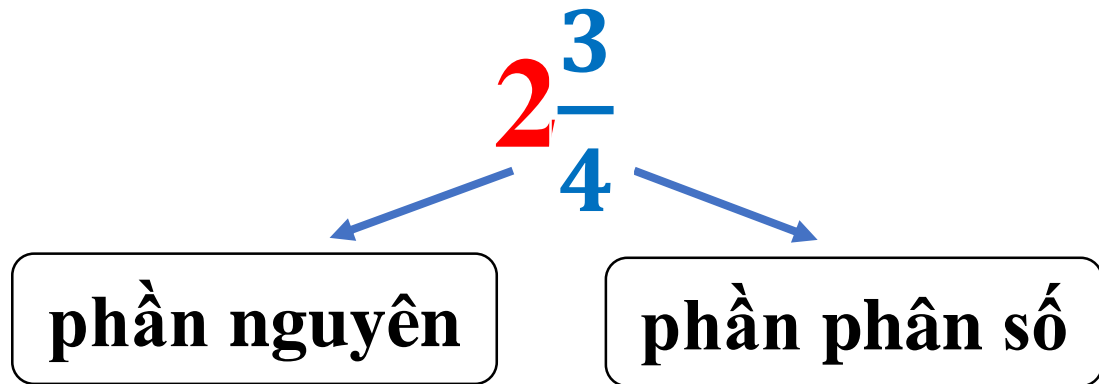


Mỗi hỗn số gồm hai phần: **phần nguyên** là số tự nhiên và **phần phân số** bé hơn 1.

Để đọc hỗn số, ta đọc phần nguyên, chữ “và” rồi đến phần phân số.




## Ví dụ



$2\frac{3}{4}$  đọc là: hai và ba phần tư



# HOẠT ĐỘNG



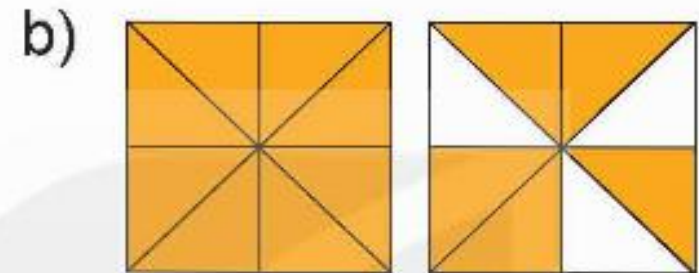
1

# Viết và đọc hỗn số thích hợp với mỗi hình (theo mẫu)

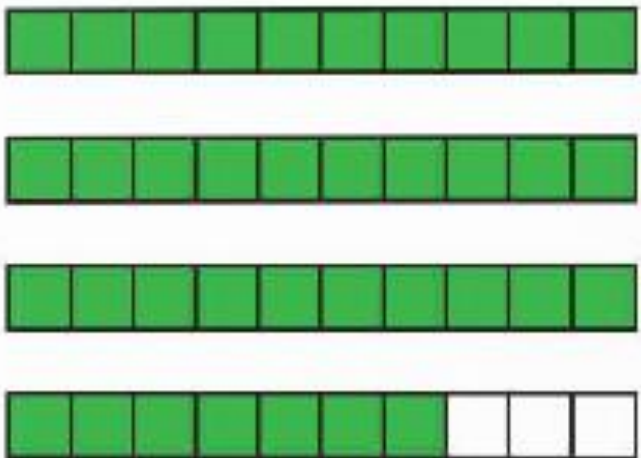
Mẫu:



$2\frac{4}{9}$ : Hai và bốn phần chín

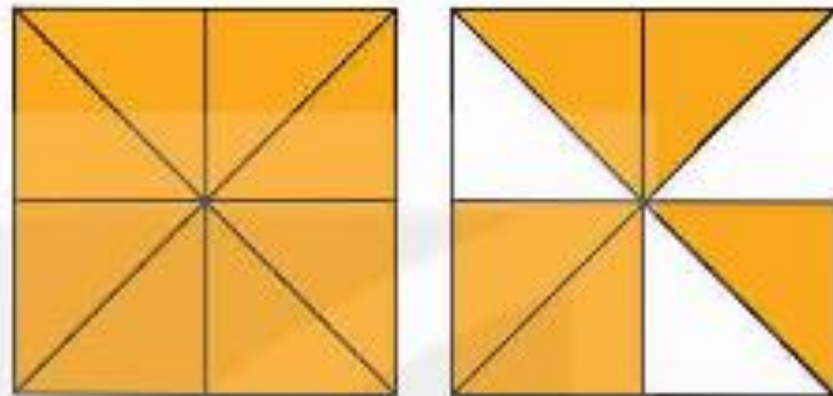


a)



$3\frac{7}{10}$  đọc: Ba và bảy phần mười

b)



$1\frac{5}{8}$  đọc: Một và năm phần tám

2

Hãy chỉ ra phần nguyên và phần phân số trong mỗi hỗn số

$$3 \frac{1}{4}$$

$$5 \frac{5}{6}$$

$$12 \frac{7}{10}$$

$$100 \frac{59}{100}$$



$$3 \frac{1}{4}$$

Phần nguyên là 3

Phần phân số là  $\frac{1}{4}$

$$5 \frac{5}{6}$$

Phần nguyên là 5

Phần phân số là  $\frac{5}{6}$

$$12 \frac{7}{10}$$

Phần nguyên là 12

Phần phân số là  $\frac{7}{10}$

$$100 \frac{59}{100}$$

Phần nguyên là 100

Phần phân số là  $\frac{59}{100}$

**3****Viết (theo mẫu)**

**Mẫu:  $8\frac{1}{3} = 8 + \frac{1}{3}$**

$1\frac{5}{7}$

**$= 1 + \frac{5}{7}$**

$4\frac{1}{2}$

**$= 4 + \frac{1}{2}$**

$2\frac{13}{100}$

**$= 2 + \frac{13}{100}$**

$5\frac{3}{10}$

**$= 5 + \frac{3}{10}$**



# VẬN DỤNG



## Làm việc theo nhóm

Một bạn viết hỗn số. Một bạn  
nêu phần nguyên và phần  
phân số của hỗn số đó.



