


CHÚC MỪNG ĐỘI BẠN THỎ
CONGRATULATIONS RABBIT TEAM



CHÚC MỪNG ĐỘI BẠN CỌP
CONGRATULATIONS TIGER TEAM

3

3

2

2

1

1



overtop



AT LIÊN CAO HƠN

RABBIT TEAM

$$9 + 6 = ?$$

15



RABBIT TEAM

$$8 + 4 = ?$$

12



RABBIT TEAM

$$8 + 5 = ?$$

13



TIGER TEAM

$$9 + 7 = ?$$

16



TIGER TEAM

$$8 + 9 = ?$$

17



TIGER TEAM

$$7 + 4 = ?$$

11



CHỦ ĐỀ

2

PHÉP CỘNG, PHÉP TRỪ TRONG
PHẠM VI 20



BÀI 9

BÀI TOÁN VỀ THÊM, BỚT
MỘT SỐ ĐƠN VỊ

12x5

x+y



Thứ tư ngày 6 tháng 10 năm 2021
Toán


Bài 9: Tiết 1: Giải bài toán về
thêm một số đơn vị

KHÁ

M

PHÁ





Khám phá

Giải bài toán về thêm một số đơn vị

Bài toán: Trên khay có 8 quả trứng, Mai cho thêm 2 quả trứng. Hỏi có tất cả bao nhiêu quả trứng?



Tóm tắt:

Có : 8 quả trứng

Thêm : 2 quả trứng

Có tất cả: ... quả trứng?



Bài giải


Số quả trứng có tất cả là:

$$8 + 2 = 10 \text{ (quả)}$$

Đáp số: 10 quả trứng.



HỌẠT
ĐỘNG





1

Lọ hoa có 9 bông hoa, Việt cắm thêm 6 bông hoa. Hỏi lọ hoa có tất cả bao nhiêu bông hoa?



Tóm tắt

Có : 9 bông hoa

Thêm : 6 bông hoa

Có tất cả: ... bông hoa?

Bài giải

Số bông hoa có tất cả là:

$$9 + 6 = 15 \text{ (bông)}$$

Đáp số: 15 bông hoa.



2 Có 8 bạn đang chơi kéo co, có thêm 4 bạn chạy đến cùng chơi. Hỏi lúc đó có tất cả bao nhiêu bạn chơi kéo co?

Tóm tắt

Có : 8 bạn

Thêm : 4 bạn

Có tất cả: ... bạn?

Bài giải

Số bạn chơi kéo co có tất cả là:

$$8 + 4 = 12 \text{ (bạn)}$$


Đáp số: 12 bạn.

CHÀO TẠM BIỆT



Toán

Bài 9: Tiết 2: Giải bài toán về
bớt một số đơn vị



Khám phá

Giải bài toán về bớt một số đơn vị


Bài toán: Có 10 con chim đậu trên cành, sau đó 3 con bay đi. Hỏi trên cành còn lại bao nhiêu con chim?

Tóm tắt:

Có : 10 con chim

Bay đi : 3 con chim

Còn lại : ... con chim?



Bài giải


Số con chim còn lại là:

$$10 - 3 = 7 \text{ (con)}$$

Đáp số: 7 con chim.



Đàn lợn nhà An có 15 con, mẹ đã bán 5 con. Hỏi đàn lợn nhà An còn lại bao nhiêu con?



Tóm tắt

Có : 15 con lợn

Bán : 5 con lợn

Còn lại: ... con lợn?

Bài giải

Số con lợn còn lại là:

$$15 - 5 = 10 \text{ (con)}$$

Đáp số: 10 con lợn.

LUYỆ
N TẬP



Thứ năm ngày 7 tháng 10 năm 2021
Giáo án

Bài 9: Tiết 2: Giải bài toán về
thêm, bớt một số đơn vị.

Luyện tập



luyện tập


1 Giải bài toán theo tóm tắt sau:

Tóm tắt

Có : 9 thuyền

Thêm : 4 thuyền

Có tất cả: ... thuyền?



Bài giải

Tổng thuyền có tất cả là:

$$9 + 4 = 13 \text{ (thuyền)}$$

Đáp số: 13 thuyền.



2 Trên xe có 14 bạn, đến điểm dừng có 3 bạn xuống xe. Hỏi lúc đó trên xe còn
lai bao nhiêu bạn?

Tóm tắt

Trên xe có : 14 bạn

Xuống xe : 3 bạn

Còn lại : ... bạn?



Bài giải

Số bạn còn lại trên xe là:

$$14 - 3 = 11 \text{ (bạn)}$$

Đáp số: 11 bạn.

CHÀO TẠM BIỆT

