

*Chào mừng các em đến
với
Môn Toán*



BẮT BƯỚM



1

CHÚC MỪNG

ĐỘI A

CONGRATULATIONS

TEAM A

3



TEAM A

10



5



4



PIPI

CHÚC MỪNG

ĐỘI B

CONGRATULATIONS

TEAM B

7



TEAM B

10



$$10 + 9 = ?$$



A. 19

B. 12

C. 18

D. 15

GO HOME

$$9 + 2 = ?$$



A. 14

B. 13

C. 12

D. 11

GO HOME

$$5 + 8 = ?$$



A. 14

B. 13

C. 12

D. 15

GO HOME

$$12 + 3 = ?$$



A. 15

B. 16

C. 14

D. 13

GO HOME

$$8 + 8 = ?$$



A. 17


B. 14

C. 16

D. 15

GO HOME

$$3 + 8 = ?$$



A. 14

B. 13

C. 12

D. 11

GO HOME

$$5 + 9 = ?$$



A. 16

B. 14

C. 13

D. 17

GO HOME

$$7 + 6 = ?$$



A. 15

B. 12

C. 14

D. 13

GO HOME

CHỦ ĐỀ
2


PHÉP CỘNG, PHÉP TRỪ
TRONG PHẠM VI 20

BÀI 9: BÀI TOÁN VỀ THÊM BỚT
MỘT SỐ ĐƠN VỊ

TIẾT 1



KHÁM PHÁ





Giải bài toán về thêm một số đơn vị

Bài toán: Trên khay có 8 quả trứng, Mai cho thêm 2 quả trứng. Hỏi có tất cả bao nhiêu quả trứng?




Tóm tắt:

Có : 8 quả trứng

Thêm : 2 quả trứng

Có tất cả: ... quả trứng?



Bài giải

Số quả trứng có tất cả là:

$$8 + 2 = 10 \text{ (quả)}$$

Đáp số: 10 quả trứng.



HOẠT ĐỘNG





- 1 Lọ hoa có 9 bông hoa, Việt cắm thêm 6 bông hoa.
Hỏi lọ hoa có tất cả bao nhiêu bông hoa?



Tóm tắt

Có : 9 bông hoa

Thêm : 6 bông hoa

Có tất cả: ... bông hoa?

Bài giải

Số bông hoa có tất cả là:

$$9 + 6 = 15 \text{ (bông)}$$

Đáp số: 15 bông hoa.



2

Có 8 bạn đang chơi kéo co, có thêm 4 bạn chạy đến cùng chơi.
Hỏi lúc đó có tất cả bao nhiêu bạn chơi kéo co?

Tóm tắt

Có : 8 bạn

Thêm : 4 bạn

Có tất cả: ... bạn?

Bài giải

Số bạn chơi kéo co có tất cả là:

$$8 + 4 = 12 \text{ (bạn)}$$

Đáp số: 12 bạn.



Củng cố bài học

