



Công nghệ

SỬ DỤNG QUẠT ĐIỆN (T2)





Khởi động





Câu 1: Em hãy điền vào chỗ trống để nêu tác dụng của quạt điện?

Quạt điện tạo ra **gió...**, giúp **làm mát**



Câu 2: Đây là loại quạt nào?



A. Quạt trần

B. Quạt treo tường

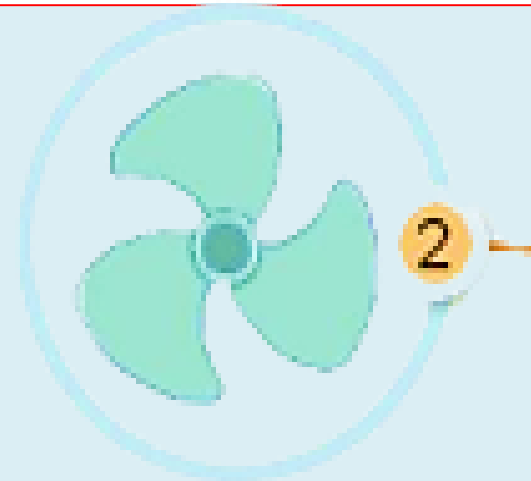
C. Quạt bàn

D. quạt hộp

Đáp án: A



Câu 3: Đây là bộ phận nào của quạt điện?



A. Lòng quạt

B. Cánh quạt

C. Đế quạt

D. Tuốc năng

Đáp án: B



3. Sử dụng quạt điện đúng cách và an toàn.

a) Các bước sử dụng quạt đúng cách:

Em hãy sắp xếp các bước trong Hình 4 theo thứ tự hợp lý khi sử dụng quạt điện:



a) Đặt quạt trên bề mặt bằng phẳng, chắc chắn



b) Tắt quạt khi không sử dụng



c) Bật quạt và chọn tốc độ quay của cánh quạt



d) Điều chỉnh hướng gió



3. Sử dụng quạt điện đúng cách và an toàn.

Các bước sử dụng quạt điện:



a) Đặt quạt trên bề mặt bằng phẳng, chắc chắn



c) Bật quạt và chọn tốc độ quay của cánh quạt



d) Điều chỉnh hướng gió




b) Tắt quạt khi không sử dụng

Bước 1

Bước 2

Bước 3

Bước 4



3. Sử dụng quạt điện đúng cách và an toàn.

a) Những tình huống mất an toàn::

- Em hãy cho biết tại sao các tình huống sử dụng quạt điện trong Hình 5 là mất an toàn?



a) Đặt quạt chênh vênh trên ghế



b) Ngồi gần sát vào quạt



c) Cho ngón tay vào lồng quạt khi quạt đang hoạt động



d) Tắt quạt bằng cách giật dây nguồn

Hình 5



3. Sử dụng đèn học đúng cách và an toàn.

- Em hãy cho biết tại sao các tình huống sử dụng quạt điện trong



- Đặt quạt chên vênh trên ghế có thể làm đổ quạt, gây hư hỏng và nguy hiểm cho người xung quanh nếu mảnh vỡ của cánh quạt bị văng ra ngoài.

→ Đặt quạt ở nơi có bề mặt chắc chắn

a) Đặt quạt chên vênh trên ghế



3. Sử dụng quạt điện đúng cách và an toàn.

- Em hãy cho biết tại sao các tình huống sử dụng quạt điện trong



- Ngồi gần sát vào quạt có thể khiến tóc bị cuốn vào cánh quạt gây nguy hiểm, nhất là đối với các bé gái.

→ Nên ngồi cách quạt một khoảng an toàn.

b) Ngồi gần sát vào quạt



3. Sử dụng quạt điện đúng cách và an toàn.

- Em hãy cho biết tại sao các tình huống sử dụng quạt điện trong Hình 5 là mất an toàn?



c) Cho ngón tay vào lồng quạt khi quạt đang hoạt động

- Cho tay vào lồng quạt khi quạt đang hoạt động có thể khiến bản thân bị thương do cánh quạt cắt vào tay.

→ Không được cho tay vào lồng quạt



3. Sử dụng quạt điện đúng cách và an toàn.

- Em hãy cho biết tại sao các tình huống sử dụng quạt điện trong Hình 5 là mất an toàn?



- Tắt quạt bằng cách giật dây nguồn có thể khiến dây bị đứt, hỏng, hở điện gây nguy hiểm cho người dùng.

→ Cầm vào phích bằng nhựa và nhẹ nhàng rút dây nguồn ra khỏi ổ cắm.

d) Tắt quạt bằng cách giật dây nguồn



3. Sử dụng quạt điện đúng cách và an toàn.



a) Đặt quạt chênh vênh trên ghế



b) Ngồi gần sát vào quạt



c) Cho ngón tay vào lồng quạt khi quạt đang hoạt động



d) Tắt quạt bằng cách giật dây nguồn

Khi sử dụng, nếu quạt điện phát ra tiếng kêu khác thường hoặc bị rung lắc, cần nhanh chóng tắt quạt và báo với người lớn để đảm bảo an toàn.



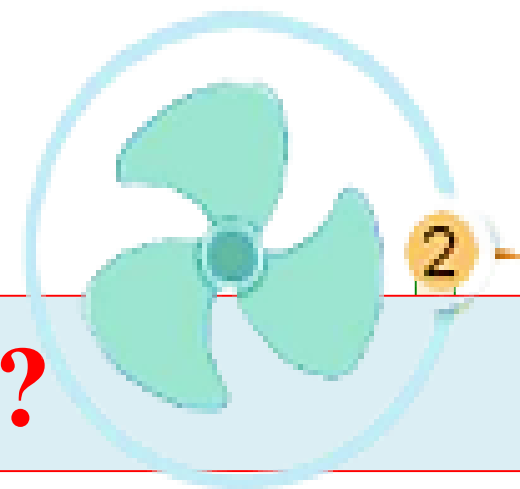
4. Vận dụng

Trong gia đình em có những loại quạt điện nào? Mỗi loại quạt được dùng trong trường hợp nào?

Loại quạt	Dùng trong trường hợp	Cách sử dụng an toàn
- Quạt cây	- Quạt cây được sử dụng trong phòng riêng của em và bố mẹ, khi ngồi học...	- Tắt quạt khi không sử dụng, không giật dây nguồn để tắt. - Không ngồi sát gần quạt.
- Quạt trần	- Quạt trần được lắp trên trần phòng khách, sử dụng khi cả nhà quây quần bên nhau hoặc có khách đến chơi.	- Không để quạt ở nơi ẩm ướt, nhiều bụi hay đặt ở nơi chênh vênh, không chắc chắn.



Câu 1: Nêu các bước sử dụng quạt đúng cách?





Câu 2: Em hãy kể một số tình huống sử dụng quạt mát an toàn?



DẶN DÒ

ÔN BÀI, ĐỌC TRƯỚC BÀI MỚI

