



# KHỞI ĐỘNG

TRÒ CHƠI: NHANH NHƯ CHỚP


$$5 \times 3 = ?$$




$$5 \times 3 = 15$$




$$35 : 5 = ?$$




$$35 : 5 = 7$$



Chủ đề

1

# ÔN TẬP VÀ BỔ SUNG

Bài 5

## Bảng nhân 3, bảng chia 3

Tiết 1

S/16

a)



Mỗi xe xích lô có 3 bánh xe. Hỏi 4 xe xích lô có mấy bánh xe?



$$3 \times 4 = ?$$

$$3 + 3 + 3 + 3 = 12$$

$$3 \times 4 = 12$$



## b) Hoàn thành bảng nhân 3

Bảng nhân 3				
3	×	1	=	3
3	×	2	=	6
3	×	3	=	?
3	×	4	=	?
3	×	5	=	?
3	×	6	=	?
3	×	7	=	?
3	×	8	=	?
3	×	9	=	?
3	×	10	=	30

### Nhận xét:

- Thừa số thứ nhất đều là số 3.
- Thừa số thứ hai là các số tự nhiên tăng dần từ 1 đến 10.
- Tích là các số tăng dần, hơn kém nhau 3 đơn vị từ 3 đến 30.

*Thêm 3 vào kết quả của  $3 \times 2$  ta được kết quả của  $3 \times 3$*



## Bảng nhân 2

$$3 \times 1 = 3$$

$$\text{🍏} \times 2 = 6$$

$$3 \times \text{🍏} = 9$$

$$3 \times \text{🍏} = 12$$

$$3 \times 5 = 15$$

$$\text{🍏} \times 6 = 18$$

$$3 \times \text{🍏} = 21$$

$$\text{🍏} \times 8 = 24$$

$$3 \times 9 = 27$$

$$\text{🍏} \times 10 = 30$$

**CÙNG HỌC  
BẢNG NHÂN 3  
NHÉ!**



# Bảng nhân 3

## Bảng nhân 3

$3 \times 1 = 3$

$3 \times 2 = 6$

$3 \times 3 = 9$

$3 \times 4 = 12$

$3 \times 5 = 15$

$3 \times 6 = 18$

$3 \times 7 = 21$

$3 \times 8 = 24$

$3 \times 9 = 27$

$3 \times 10 = 30$

$3 \times 1 = 3$

$3 \times 2 = 6$

$3 \times 3 = 9$

## Bảng nhân 3

$3 \times 1 = 3$

$3 \times 2 = 6$

$3 \times 3 = 9$

$3 \times 4 = 12$

$3 \times 5 = 15$

$3 \times 6 = 18$

$3 \times 7 = 21$

$3 \times 8 = 24$

$3 \times 9 = 27$

$3 \times 10 = 30$

$3 \times 4 = 12$

$3 \times 5 = 15$

## Bảng nhân 3

$3 \times 1 = 3$

$3 \times 2 = 6$

$3 \times 3 = 9$

$3 \times 4 = 12$

$3 \times 5 = 15$

$3 \times 6 = 18$

$3 \times 7 = 21$

$3 \times 8 = 24$

$3 \times 9 = 27$

$3 \times 10 = 30$

$3 \times 6 = 18$

$3 \times 7 = 21$

$3 \times 8 = 24$

$3 \times 9 = 27$

$3 \times 10 = 30$

## Bảng nhân 3

$3 \times 1 = 3$

$3 \times 2 = 6$

$3 \times 3 = 9$

$3 \times 4 = 12$

$3 \times 5 = 15$

$3 \times 6 = 18$

$3 \times 7 = 21$

$3 \times 8 = 24$

$3 \times 9 = 27$

$3 \times 10 = 30$






CÙNG HỌC  
BẢNG NHÂN 3  
NHÉ!





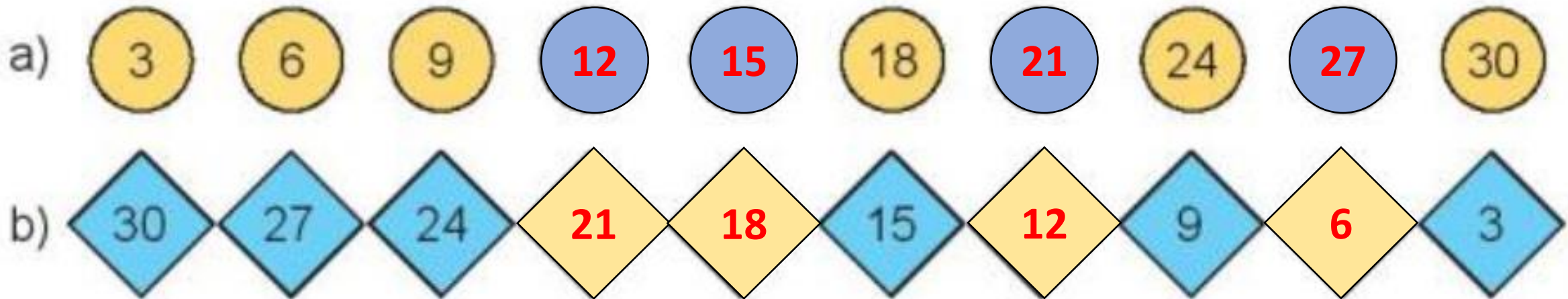


# 1 SỐ?

Thừa số	3	3	3	3	3	3
Thừa số	2	3	5	7	9	10
Tích	6					



## 2 Nêu các số còn thiếu?





**3** Mỗi bàn đấu cờ vua có 3 người, gồm trọng tài và 2 người thi đấu. Hỏi 6 bàn đấu cờ vua như vậy có bao nhiêu người?

Tóm tắt:

1 bàn : 3 người

6 bàn : ... người?



**Bài 3:**

**Bài giải**

**6 bàn đấu cờ vua có số người là:**

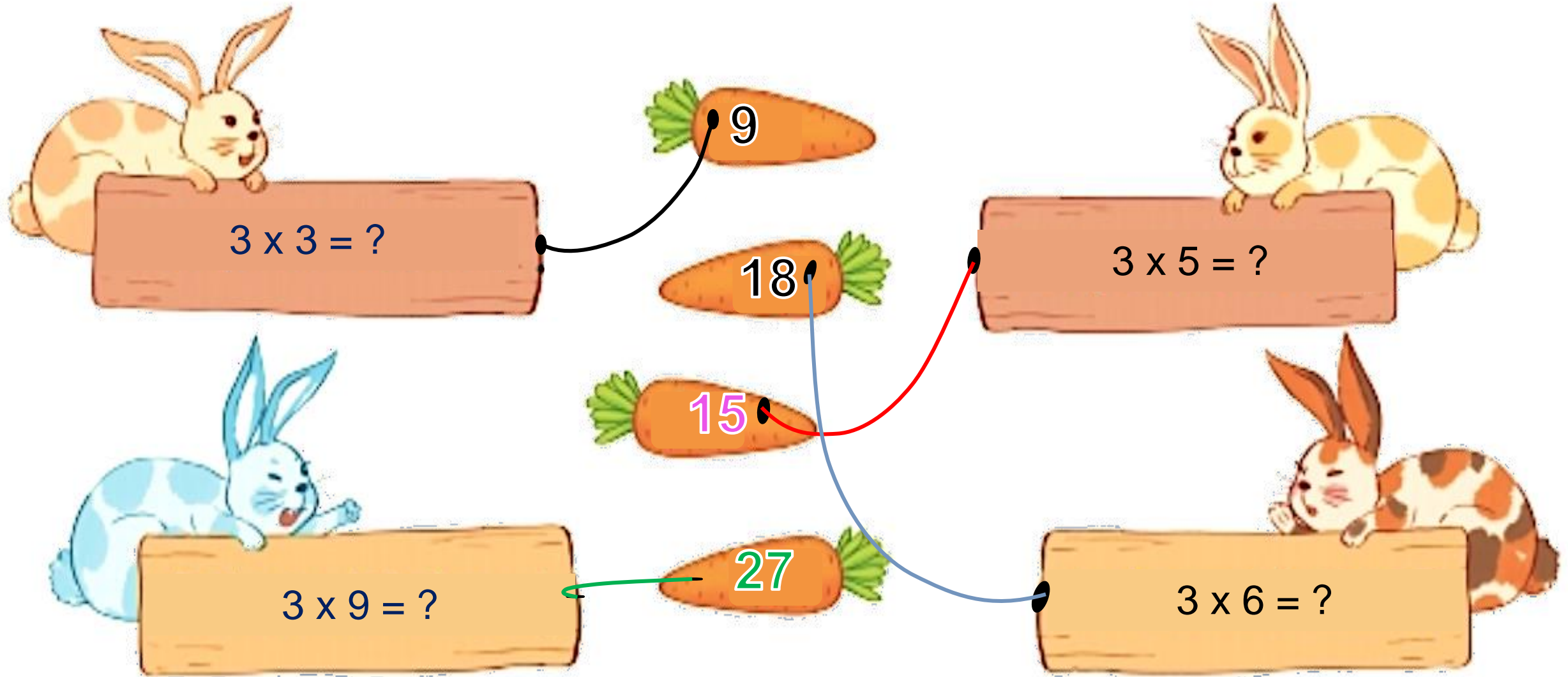
$$3 \times 6 = 18 \text{ (người)}$$

**Đáp số: 18 người.**

# VẬN DỤNG



# Trò chơi: Tìm cà rốt cho thỏ.



# DẶN DÒ

- Học thuộc bảng nhân 3
- Chuẩn bị bài bảng chia 3

