

NÉM BÓNG RỔ



$$8 \times 6 =$$



next

40

56

48

54

$$63 : 7 = ?$$



next

8

7

6

9


$$24 : 3 = ?$$

next

8

7

9

10





Toán

**BÀI 15: LUYỆN TẬP CHUNG
(TIẾT 2)**



1 Tính nhẩm

$$6 \times 4 = 24$$

$$4 \times 6 = 24$$

$$24 : 6 = 4$$

$$24 : 4 = 6$$

$$8 \times 5 = 40$$

$$5 \times 8 = 40$$

$$40 : 8 = 5$$

$$40 : 5 = 8$$

$$7 \times 8 = 56$$

$$8 \times 7 = 56$$

$$56 : 7 = 8$$

$$56 : 8 = 7$$

Đọc phép tính và nói kết quả cho bạn nghe



Thảo luận
nhóm đôi

2 Mẹ của Mai mua về 45 bông hoa. Mẹ bảo Mai mang hoa cắm hết vào các lọ, mỗi lọ có 9 bông hoa. Hỏi Mai cắm được bao nhiêu lọ hoa như thế?



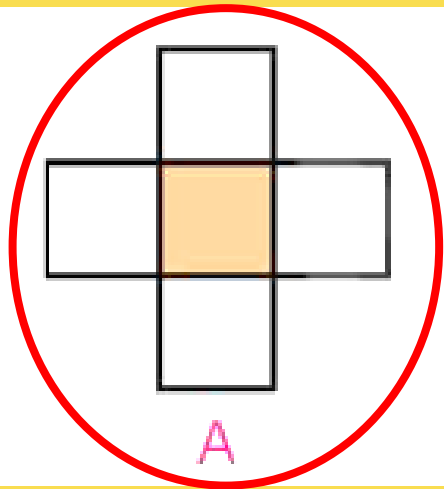
Số lọ hoa mà Mai cắm được là:

$$45 : 9 = 6 \text{ (lọ)}$$

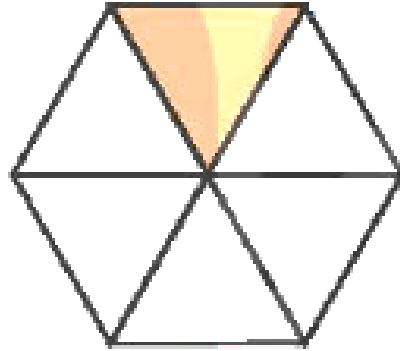
Đáp số: 6 lọ hoa



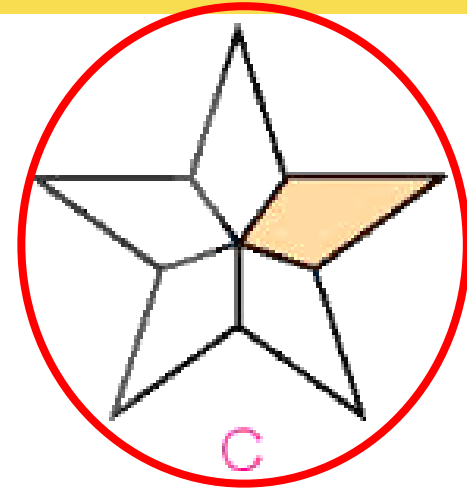
3 a) Đã tô màu 15 những hình nào?




A



B




C



**THẢO LUẬN
NHÓM ĐÔI**



b số



$\frac{1}{6}$ con éch là con éch.

$$18 : 6 = 3$$


$\frac{1}{9}$ con éch là con éch.

$$18 : 9 = 2$$



Trò chơi

Cầu thang - Cầu trượt





Luật chơi

- Chơi theo nhóm
- Người chơi bắt đầu từ ô Xuất phát. Khi đến lượt, người chơi gieo xúc xắc. Đếm số chấm ở mặt trên xúc xắc rồi di chuyển số ô bằng số chấm đó. Nêu kết quả phép tính tại ô đi đến, nếu nêu sai kết quả thì phải quay về ô xuất phát trước đó. Khi đến chân cầu thang, em leo lên; khi đến đỉnh cầu trượt, em trượt xuống.
- Trò chơi kết thúc khi có người về Đích.





8×7	$24 : 4$	9×9	$27 : 3$	ĐÍCH
$48 : 6$	7×9	$28 : 7$	6×6	$32 : 8$
9×6	$18 : 2$	3×5	$63 : 9$	4×4
$21 : 3$	8×3	$36 : 4$	7×5	$50 : 5$
4×9	$35 : 7$	5×6	$42 : 6$	6×4
$56 : 8$	3×7	$45 : 9$	2×8	XUẤT PHÁT ←

Tạm biệt
và
Hẹn gặp lại

