


KHỞI ĐỘNG



**CÙNG CHÚNG TỚ ĐI
SIÊU THỊ NÀO!**





3 cm =mm

A. 3000




B. 300



C. 30





40 mm = ? cm

A. 400



B. 4



C. 4000





2 000 mm = ? m

A. 2



B. 20



C. 200





8 000 mm = ?m

A. 8



B. 80





Thứ ... ngày ... tháng ... năm 202..

Toán

BÀI 31: MI-LI-MÉT (TIẾT 2)



1 Tính

$250 \text{ mm} + 100 \text{ mm}$

$25 \text{ mm} + 3 \text{ mm}$

$11 \text{ mm} \times 3$

$420 \text{ mm} - 150 \text{ mm}$

$64 \text{ mm} - 15 \text{ mm}$

$50 \text{ mm} : 2$



$$250 \text{ mm} + 100 \text{ mm} = 350 \text{ mm}$$

$$25 \text{ mm} + 3 \text{ mm} = 28 \text{ mm}$$

$$420 \text{ mm} - 150 \text{ mm} = 270 \text{ mm}$$

$$11 \text{ mm} \times 3 = 33 \text{ mm}$$

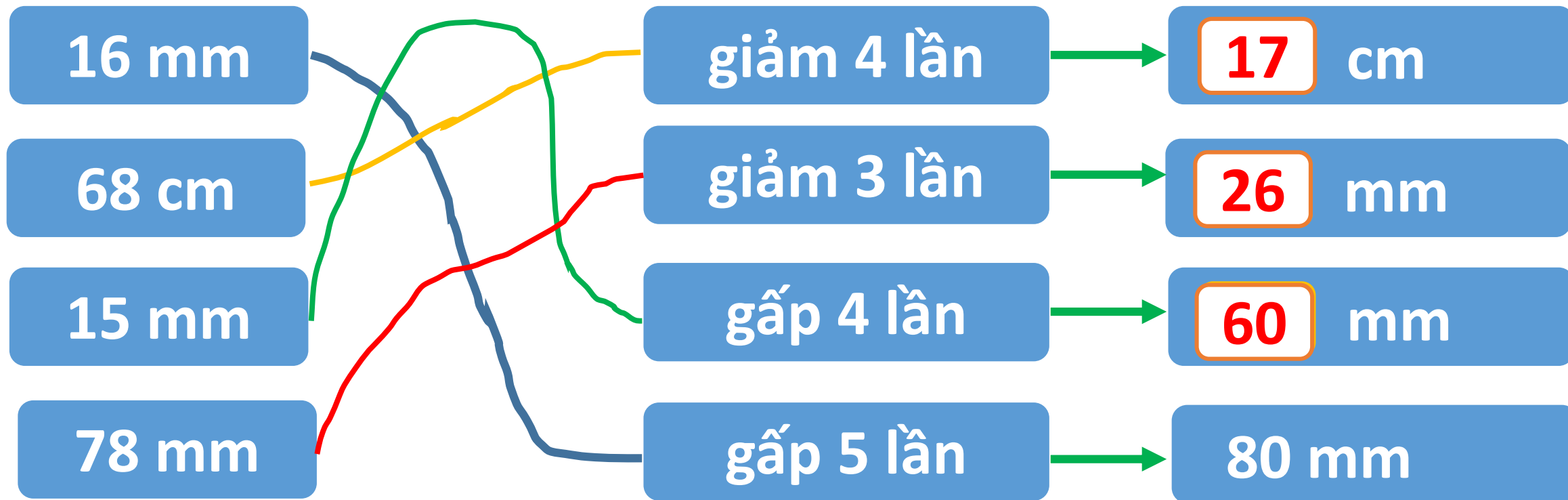
$$64 \text{ mm} - 15 \text{ mm} = 49 \text{ mm}$$

$$50 \text{ mm} : 2 = 25 \text{ mm}$$



THU HOẠCH BÍ

2 Số?



3

Ốc sên đi từ nhà đến trường. Bạn ấy đã đi được 152 mm. Quãng đường còn phải đi dài 264 mm. Hỏi quãng đường ốc sên đi từ nhà đến trường dài bao nhiêu mi-li-mét?

Bài giải:



Quãng đường ốc sên đi từ nhà
đến trường dài là:

$$152 + 264 = 416 \text{ (mm)}$$

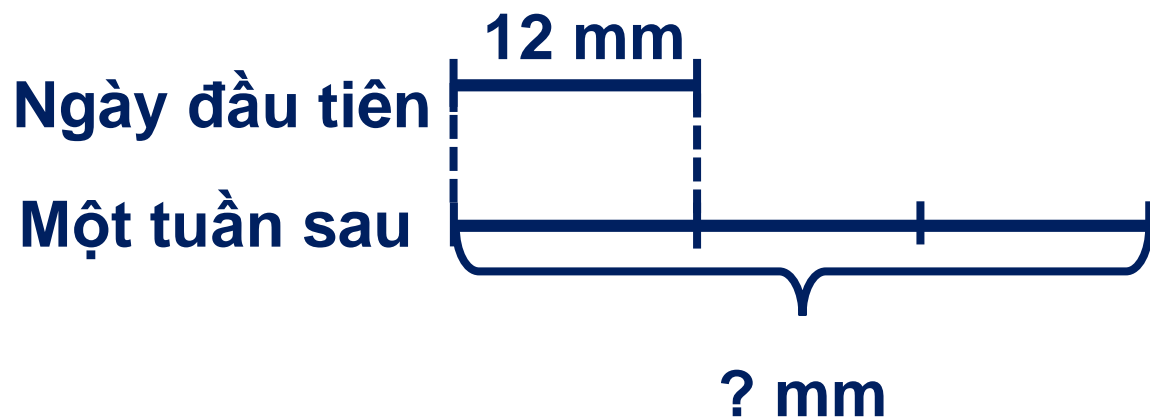
Đáp số: 416 mm



4

Cào cào tập nhảy mỗi ngày. Ngày đầu tiên cào cào nhảy xa được 12 mm. Một tuần sau thì cào cào nhảy xa được gấp 3 lần ngày đầu tiên. Hỏi khi đó cào cào nhảy xa được bao nhiêu mi-li-mét?

Tóm tắt



Bài giải

Một tuần sau cào cào
nhảy xa được:

$$12 \times 3 = 36 \text{ (mm)}$$

Đáp số: 36 mm

Tạm biệt
và hẹn gặp lại!

