




TOÁN

KHỞI ĐỘNG



XÂY NHÀ CHO THỎ





Làm tròn giá đến
hàng trăm nghìn?



289 000 đồng

Đôi dép

A. 290 000

B. 300 000

C. 200 000

D. 280 000



Làm tròn giá đến hàng trăm nghìn?



3 634 000 đồng

Máy tính bảng

A. 3 700 000

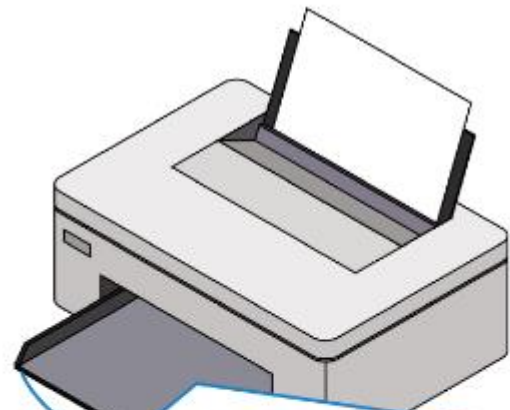
B. 3 800 000

C. 3 600 000

D. 3 000 0000



Làm tròn giá đến hàng
trăm nghìn?



4 159 000 đồng

Máy in

A. 4 000 000

B. 4 100 000

C. 5 000 000

D. 4 200 000




BÀI 14: SO SÁNH CÁCH SỐ CÓ NHIỀU CHỮ SỐ





**KHÁM
PHÁ**





Khám phá

Sao Kim cách Mặt Trời khoảng 108 000 000 km.

Sao Hỏa cách Mặt Trời khoảng 230 000 000 km.

Vậy sao Hỏa cách xa Mặt Trời hơn



Như vậy, bạn Nam đã sử dụng so sánh để biết được Sao Hỏa cách xa Mặt Trời hơn Sao Kim

Quy tắc so sánh hai số có nhiều chữ số:



- ✓ Số nào có nhiều chữ số hơn thì lớn hơn.
- ✓ Nếu hai số có cùng số chữ số thì so sánh từng cặp chữ số ở cùng một hàng, kể từ trái sang phải.
Chẳng hạn: vì $2 > 1$ nên $230\ 000\ 000 > 108\ 000\ 000$.

Ví dụ: Cho khoảng cách từ Trái Đất đến Mặt Trời là 149 600 000 km, khoảng cách từ sao Mộc đến Mặt Trời là 741 510 000 km. Em hãy so sánh và cho biết hành tinh nào cách xa Mặt Trời hơn.

$149\ 600\ 000 < 741\ 510\ 000$
Sao Mộc cách xa Mặt Trời hơn.





HOẠT ĐỘNG



1 $>$, $<$, $=$

$$278\,992\,000 > 278\,999$$

$$37\,338\,449 < 37\,839\,449$$

$$3\,004\,000 < 3\,400\,000$$

$$200\,000\,000 > 99\,999\,999$$

$$3\,405\,000 = 3\,000\,000 + 400\,000 + 5\,000$$

3 405 000

$$650\,700 < 6\,000\,000 + 500\,000 + 7\,000$$

6 507 000

2

So sánh giá tiền hai căn nhà của bác Ba và chú Sáu.

Nhà bác Ba



950 000 000 đồng

Nhà chú Sáu



1 000 000 000 đồng

$950\ 000\ 000 < 1\ 000\ 000\ 000$

→ Nhà chú Sáu đắt tiền hơn.

3

Việt nói rằng: “Hai số 37 003 847 và 23 938 399 có cùng số chữ số. Chữ số tận cùng của số 23 938 399 là 9. Chữ số tận cùng của số 37 003 847 là 7.

Mà 9 lớn hơn 7 nên 23 938 399 lớn hơn 37 003 847”.

Hỏi Việt đã nói sai ở đâu?

Việt sai ở chỗ đã so sánh số từ phải sang trái.



Để đúng với quy tắc so sánh số có nhiều chữ số, ta phải so sánh từ trái sang phải, tức là so sánh chữ số hàng chục triệu của hai số trước.



UẬN DỤNG



Hỏi nhanh đáp đúng



Đố bạn số 356 872, 283 576,
638 752 số nào lớn nhất?



Đố bạn số 394 765: 563 947;

Đố bạn số nào lớn hơn
số 246 864?



CHÚC EM HỌC TỐT

