



TOÁN





**KHỞI
ĐỘNG**



ĐỒ BẠN





Câu 1: Công thức tính diện tích hình tròn là:



A $r \times r \times 3,14$

B $\frac{d}{2} \times \frac{d}{2} \times 3,14$

C A và B đều đúng





Câu 2: Diện tích hình tròn có đường kính 20 cm là:

A 31,4 cm

B 314 cm

C 314 cm²






BÀI 28

**THỰC HÀNH VÀ TRẢI NGHIỆM
ĐO, VẼ, LẮP GHÉP, TẠO HÌNH**


(Tiết 2)





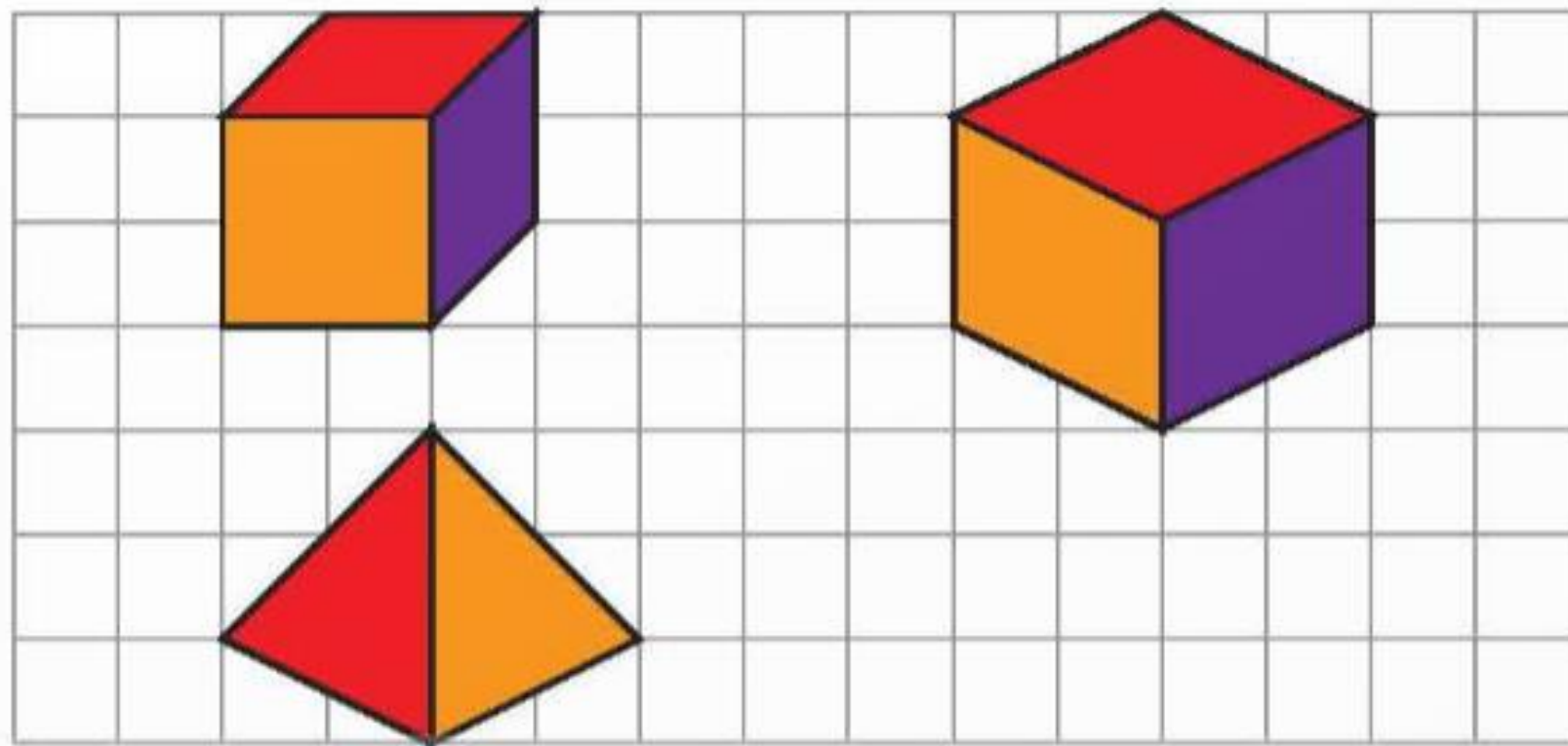
**Trong tiết học này, chúng ta hãy
cùng nhau tạo ra hình yêu thích.**






1


**Cắt rời dán để tạo thành các hình
(theo mẫu)**





2


Trò chơi xếp hình.





Từ 7 miếng ghép của bộ trò chơi xếp hình, em hãy xếp thành các hình dưới đây

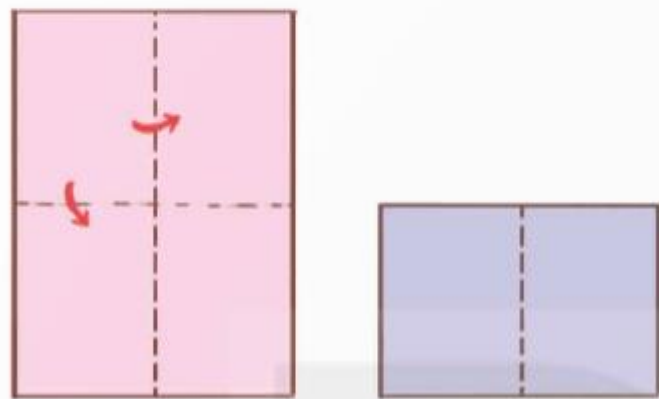




3

Em hãy gấp thuyền buồm theo hướng dẫn dưới đây.

Bước 1: Chuẩn bị một tờ giấy hình chữ nhật. Gấp tờ giấy làm đôi.



Bước 2: Gấp tạo thành hình tam giác.





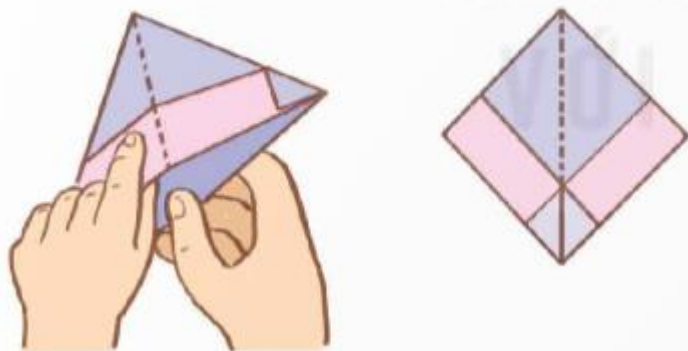
Bước 3: Gấp mép giấy lên trên.



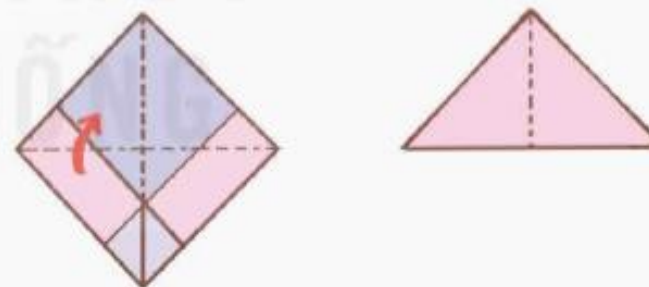
Bước 4: Gấp góc tờ giấy vào trong.



Bước 5: Tạo thành hình vuông.



Bước 6: Gấp thành hình tam giác.





Bước 7: Tạo thành hình vuông.



Bước 8: Tạo thành hình thuyền buồm.





**VỀ NHÀ: hoàn thành
sản phẩm**