

CHỦ ĐỀ 8

PHÉP NHÂN, PHÉP CHIA



BÀI 40

BẢNG NHÂN 5



KHÁM
PHÁ





Khám phá

a)



$$5 \times 1 = 5$$



$$5 + 5 = 10$$

$$5 \times 2 = 10$$



$$5 + 5 + 5 = 15$$

$$5 \times 3 = 15$$

Nhận xét:

- $5 \times 2 = 10$; $5 \times 3 = 15$.
- Thêm 5 vào kết quả của 5×2 ta được kết quả của 5×3 .

Năm được lấy một lần
là năm, ta có năm
nhân một bằng năm.



Năm nhân hai
bằng mười.



Năm nhân ba
bằng mười lăm.





b) Hoàn thành bảng nhân 5

*Năm nhân mười
bằng năm mươi.*



Nhận xét:

- Thừa số thứ nhất đều là số 5.
- Thừa số thứ hai là các số tự nhiên tăng dần từ 1 đến 10.
- Tích là các số tăng dần hơn kém nhau 5 đơn vị từ 5 đến 50.

Bảng nhân 2

5	×	1	=	5
5	×	2	=	10
5	×	3	=	15
5	×	4	=	?
5	×	5	=	?
5	×	6	=	?
5	×	7	=	?
5	×	8	=	?
5	×	9	=	?
5	×	10	=	50

**HOẠT
ĐỘNG**








×	5	5	5	5	5	5
	1	3	5	7	9	10
	5	15	25	35	45	50

1 Số ?

2 Tìm cánh hoa cho ong đậu.



**LUYỆN
TẬP**





luyện tập

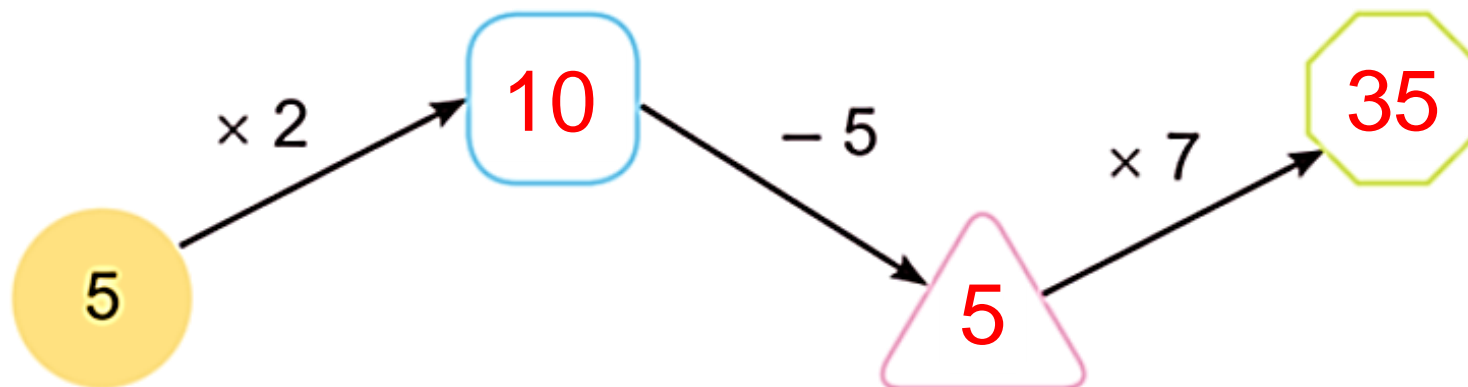
1

Số ?

a)

Thừa số	5	5	5	5	5	5	5	5
Thừa số	3	5	7	9	2	4	6	8
Tích	15	25	35	45	10	20	30	40

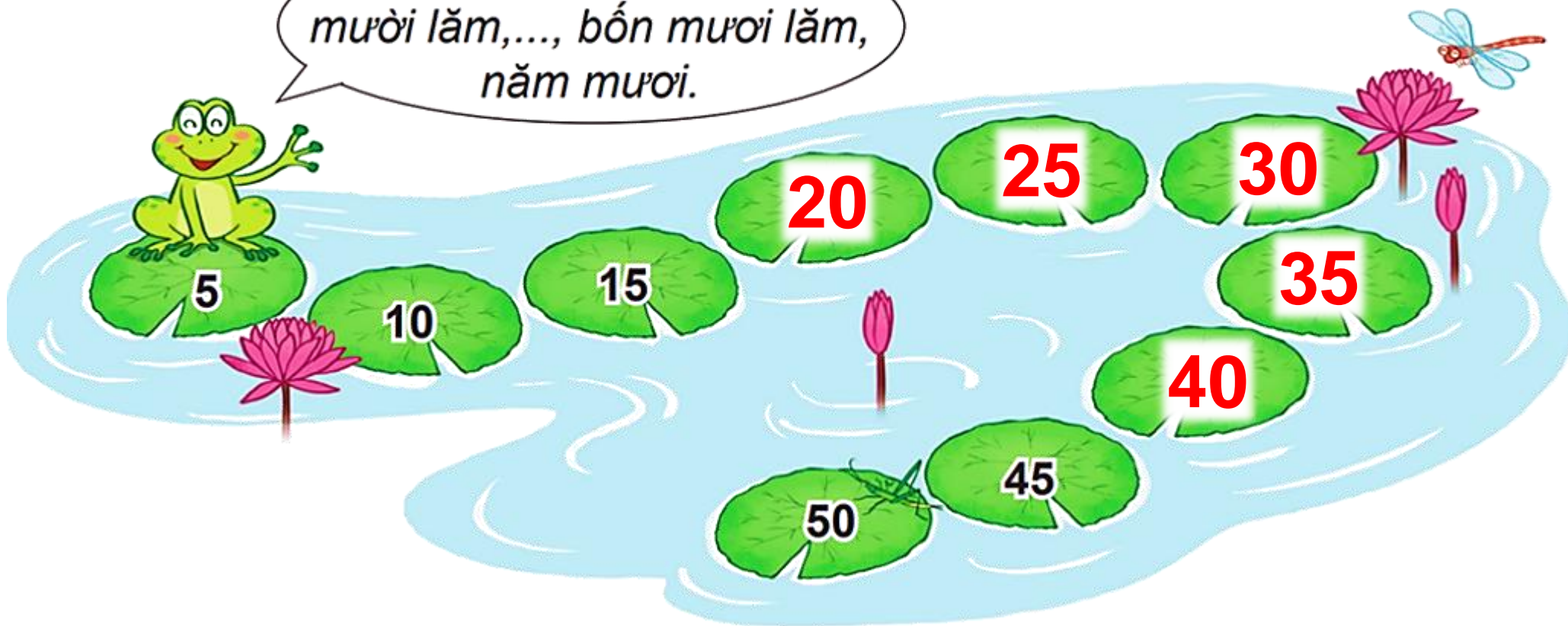
b)





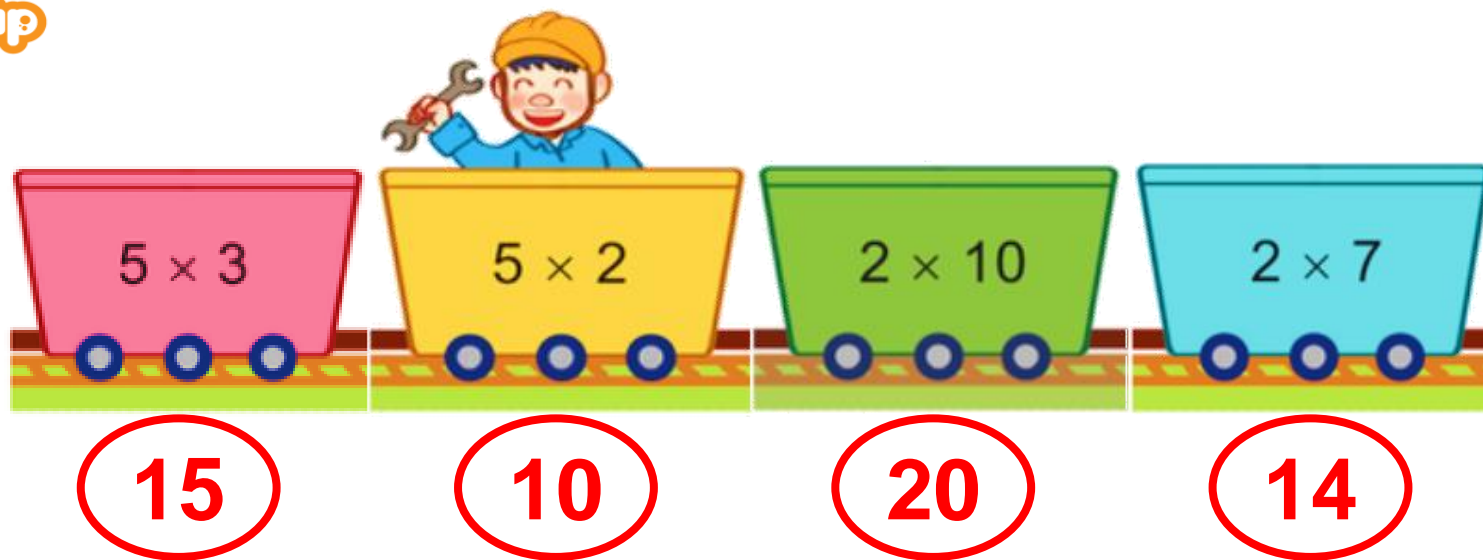
2 Đếm thêm 5 rồi
nêu số còn thiếu.

*Năm, mười,
mười lăm,..., bốn mươi lăm,
năm mươi.*





3



a) Toa tàu nào ghi phép tính có kết quả lớn nhất?

b) Toa tàu nào ghi phép tính có kết quả bé nhất?



- 4** Bác Hòa làm ống hút bằng tre thay ống nhựa. Mỗi đoạn tre làm được 5 ống hút. Hỏi với 5 đoạn tre như vậy, bác Hòa làm được bao nhiêu ống hút?



Bài giải

Với 5 đoạn tre như vậy, bác Hòa làm được số ống hút là:

$$5 \times 5 = 25 \text{ (ống hút)}$$

Đáp số: 25 ống hút.