



Bài 39

SO SÁNH SỐ LỚN GẤP MẤY LẦN SỐ BÉ



BAN NHẠC GẤU CON



Giá trị của biểu thức : $27 - 7 + 30 =$

30

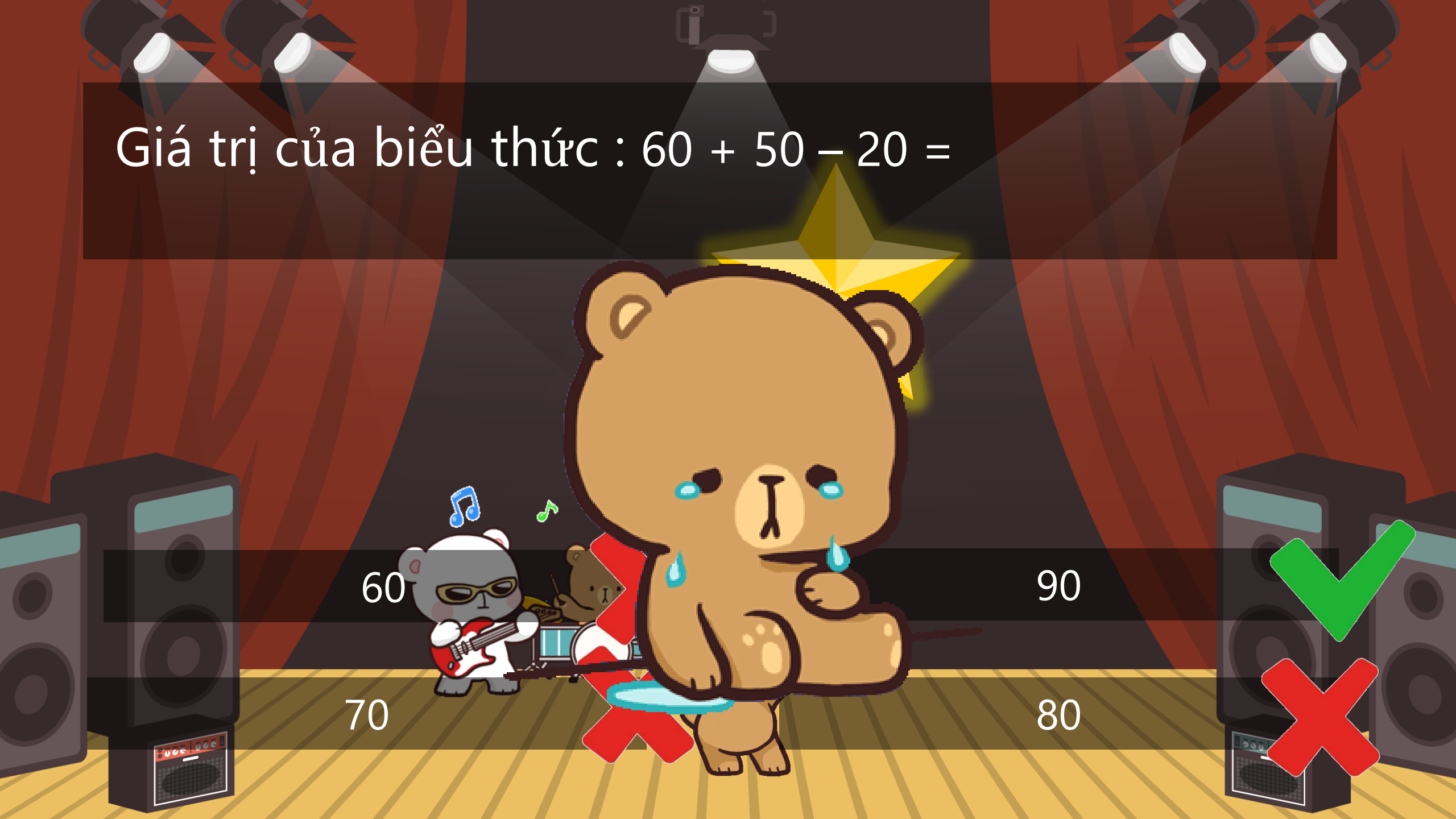
50

40

60



Giá trị của biểu thức : $60 + 50 - 20 =$



60

90

70

80

Giá trị của biểu thức : 9×4



32

34

36

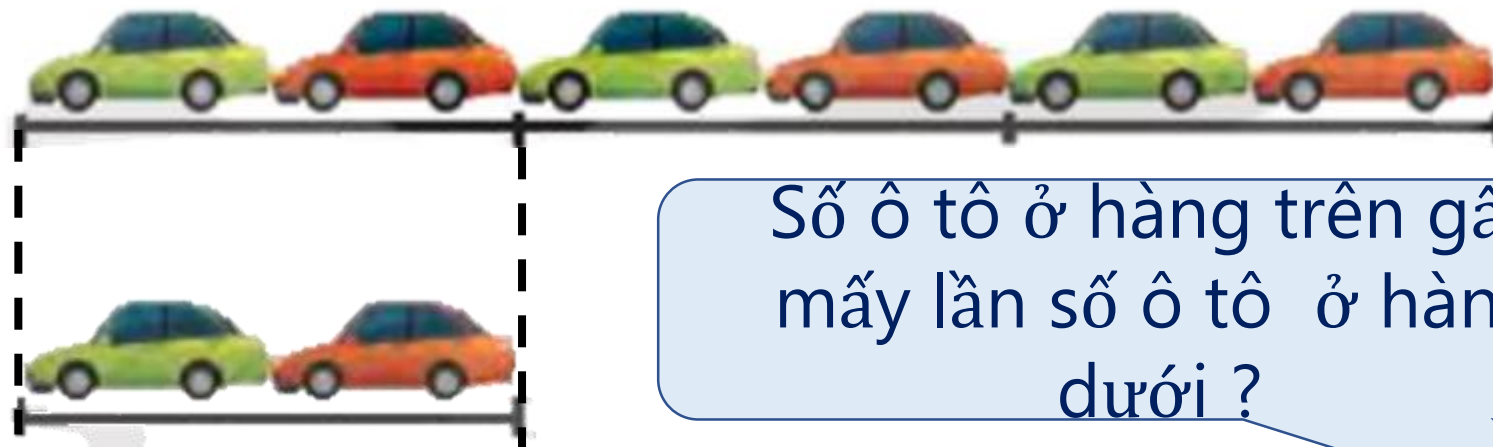
38

A cartoon illustration of a white cat with a red scarf, sitting on an open book. The cat has a yellow patch on its head and a grey patch on its tail. The background is a dark blue circle with a white border. The text 'KHÁM PHÁ' is written in large, bold, blue letters across the middle of the image.

KHÁM PHÁ



Khám phá



Số ô tô ở hàng trên gấp
mấy lần số ô tô ở hàng
dưới ?

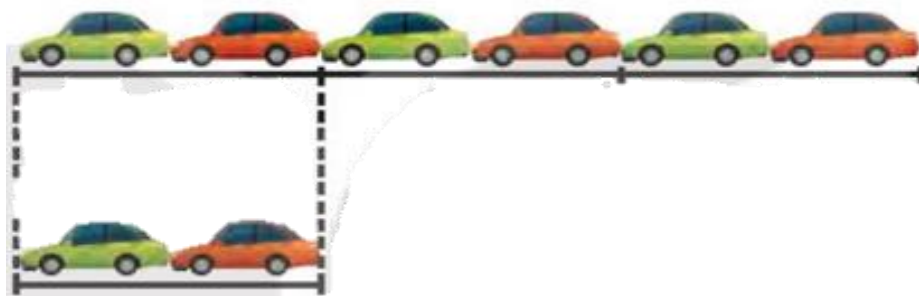
*** Muốn tìm số lớn gấp
mấy lần số bé, ta lấy số
lớn chia cho số bé.**





Khám phá

Số ô tô ở hàng dưới gấp
lên 3 lần ta được số ô tô
ở hàng trên :
 $2 \times 3 = 6$ (ô tô)



Số ô tô ở hàng trên
gấp số ô tô ở hàng
dưới số lần là :
 $6 : 2 = 3$ (lần)





Hàng trên có 6 ô tô, hàng dưới có 2 ô tô. Hỏi số ô tô ở hàng trên gấp mấy lần số ô tô ở hàng dưới?

+ Số ô tô ở hàng dưới gấp lên 3 lần thì được số ô tô ở hàng trên :

$$2 \times 3 = 6 \text{ (ô tô)}$$

+ Số ô tô ở hàng trên gấp số ô tô ở hàng dưới số lần là :

$$6 : 2 = 3 \text{ (lần)}$$

* Muốn tìm số lớn gấp mấy lần số bé, ta lấy số lớn chia cho số bé.



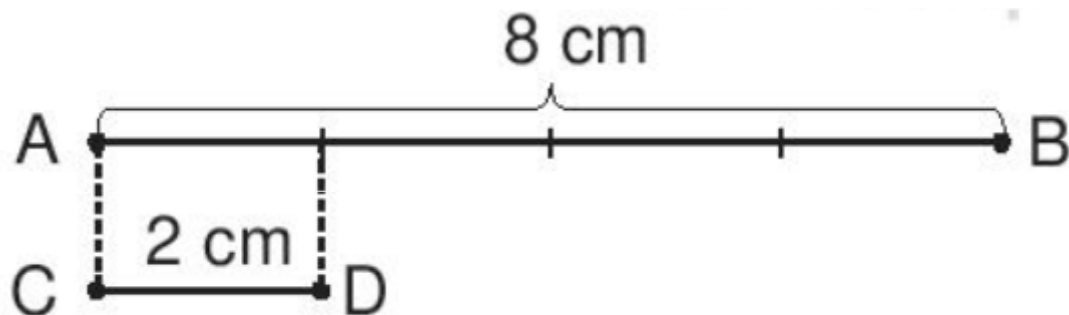


Khám phá



b) Đoạn thẳng AB dài 8cm, đoạn thẳng CD dài 2cm. Hỏi đoạn thẳng AB dài gấp mấy lần đoạn thẳng CD?

Tóm tắt:



Bài giải:

Đoạn thẳng AB dài gấp đoạn thẳng CD số lần là:

$$8 : 2 = 4 \text{ (lần)}$$

Đáp số : 4 lần





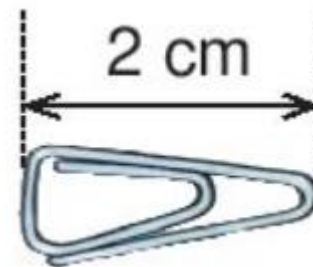
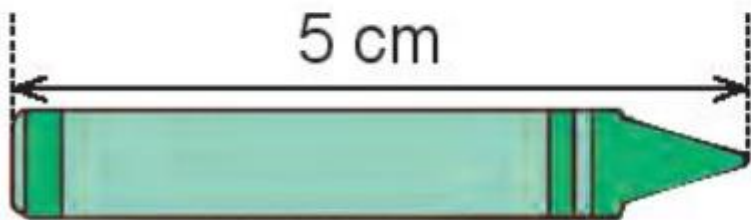
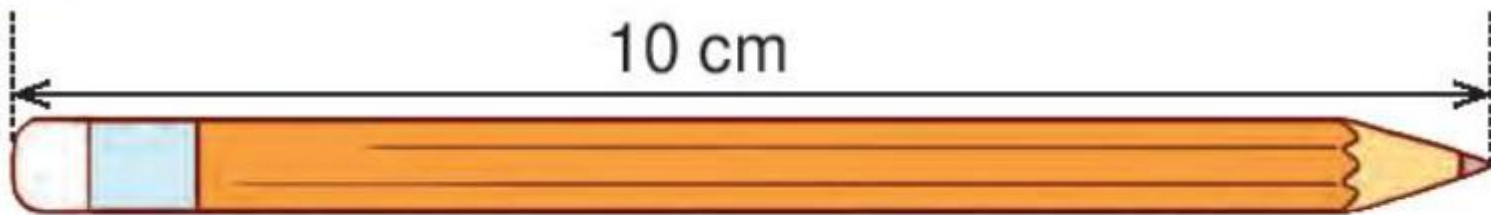
1 SỐ ?



Muốn tìm số lớn gấp mấy lần số bé ta lấy số lớn chia cho số bé.

Số lớn	6	10	20
Số bé	2	5	4
Số lớn gấp mấy lần số bé?	3	2	5





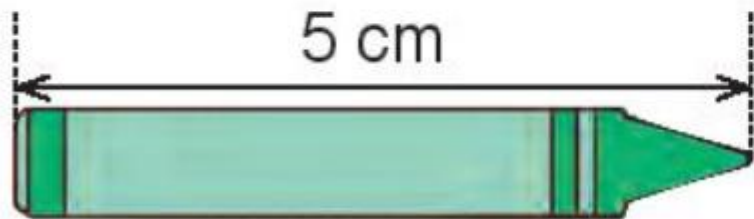
a) Bút chì dài gấp **2** lần bút sáp.

b) Bút chì dài gấp **5** lần cái ghim.

- Để tìm bút chì dài gấp mấy lần bút sáp ta lấy độ dài của bút chì chia cho độ dài của bút sáp.

- Để tìm bút chì dài gấp mấy lần cái ghim ta lấy độ dài của bút chì chia cho độ dài của cái ghim.





- a) Bút chì dài gấp bút sáp số lần là $10 : 5 = 2$ (lần)
b) Bút chì dài gấp cái ghim số lần là $10 : 2 = 5$ (cm)





Củng cố - dặn dò