



*Khởi*

*động*

MÙA HÃT.

MÙA CHO MẸ XEM



Hãy cùng nhau trả lời các câu hỏi để cùng kết thúc tiết học bằng một bài múa hát đáng yêu các bạn nhé!

Chọn tỉ số phần trăm tương ứng

với phân số:  $\frac{47}{100}$

A

46 %

B

45 %

C

48 %

D

47 %

Chọn tỉ số phần trăm tương

ứng với phân số:  $\frac{95}{100}$

A

94 %

B

93 %



95 %

D

92 %

Tỉ số phần trăm của số học sinh giỏi  
và số học sinh toàn trường là 20%.  
Tỉ số này cho ta biết gì?

**Tỉ số 20% cho ta biết: cứ 100 học sinh  
toàn trường thì có 20 bạn học sinh giỏi.**

# CHIA CHHO MEXEM



HƯƠNG THẢO



SĐT: 0972.115.126

Liên hệ trực tiếp em qua sdt  
trên để tránh nhầm lẫn  
nick giả mạo

## BÀI 36 - TIẾT 2

# TỈ SỐ.

# TỈ SỐ PHẦN TRĂM





LUYỆN TẬP

1

# Chọn câu trả lời đúng.

Tham gia buổi tổng vệ sinh nhật rác ở sân trường có 20 bạn của lớp 5A, 24 bạn của lớp 5B và 17 bạn của lớp 5C.



Tỉ số

$$\frac{17}{24}$$



là:

A. Tỉ số của số bạn lớp 5A và số bạn lớp 5B.



B. Tỉ số của số bạn lớp 5C và số bạn lớp 5A.



C. Tỉ số của số bạn lớp 5C và số bạn lớp 5B.



D. Tỉ số của số bạn lớp 5A và số bạn lớp 5C.



2

Viết các tỉ số dưới đây thành các tỉ số phần trăm (theo mẫu).

a) Mẫu:  $\frac{9}{25} = \frac{36}{100} = 36\%$

b) Mẫu:  $37,5 : 100 = 37,5\%$

$$\frac{50}{200}$$

$$\frac{75}{300}$$

$$\frac{1}{4}$$

$$5,2 : 100$$

$$110,6 : 100$$

$$0,5 : 100$$

$$\text{a) } \frac{50}{200} = \frac{25}{100} = 25\%;$$

$$\frac{75}{300} = \frac{25}{100} = 25\%;$$

$$\frac{1}{4} = \frac{25}{100} = 25\%$$

$$\text{b) } 5,2 : 100 = 5,2\%;$$

$$110,6 : 100 = 110,6\%;$$

$$0,5 : 100 = 0,5\%$$

### 3 Đ, S?

Tính trong 6 tháng đầu năm 2022, tỉ số giới tính khi sinh của Hà Nội vẫn còn ở mức cao (113 trẻ trai/100 trẻ gái). Con số này tăng so với cùng kì năm 2021 (112,7 trẻ trai/100 trẻ gái).

(Theo <https://thanglong.chinhphu.vn>)

a) Trong 6 tháng đầu năm 2022, tỉ số của số trẻ trai và số trẻ gái là bao nhiêu phần trăm?

- Mai nói: 112,7%  S
- Việt nói: 113%  Đ

b) Trong 6 tháng cùng kì năm 2021, tỉ số của số trẻ trai và số trẻ gái là bao nhiêu phần trăm?

- Mai nói: 112,7%  Đ
- Việt nói: 113%  S

4

Tại một trạm kiểm tra tải trọng xe lưu động, người ta kiểm tra ô tô thì 92 ô tô có tải trọng đạt chuẩn. Hỏi trong 100 ô tô đó:

a) Số ô tô có tải trọng đạt chuẩn chiếm bao nhiêu phần trăm?

b) Số ô tô có tải trọng không đạt chuẩn chiếm bao nhiêu phần trăm?

### Bài giải

Số ô tô có tải trọng không đạt chuẩn là:

$$100 - 92 = 8 \text{ (ô tô)}$$

a) Số ô tô có tải trọng đạt chuẩn chiếm số phần trăm là:

$$\frac{92}{100} = 92\%$$

b) Số ô tô có tải trọng không đạt chuẩn chiếm số phần trăm là:

$$\frac{8}{100} = 8\%$$

Đáp số: a) 92%; b) 8%





**VÂN DUNG**

# Ai nhanh, ai đủng



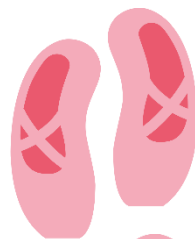
Một vườn cây có 1000 cây, trong đó có 540 cây ăn quả và còn lại là cây lấy gỗ. Hỏi số cây ăn quả chiếm bao nhiêu phần trăm số cây trong vườn?

Số cây ăn quả chiếm:  $\frac{540}{1000} = 54\%$






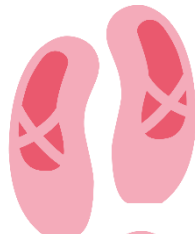
# DẶN DÒ



GV GHI DẶN DÒ Ở ĐÂY.



GV GHI DẶN DÒ Ở ĐÂY.



GV GHI DẶN DÒ Ở ĐÂY.



GV GHI DẶN DÒ Ở ĐÂY.

TẠM BIỆT VÀ

HẸN GẶP LẠI

