

# KHỞI ĐỘNG



# THANH TOÁN HOÁ ĐƠN

SUSHI



$$3 \text{ cm} \times 5 = ?$$

A. 10 cm



B. 15 cm

C. 20 cm

D. 15 dm


$$8 \text{ kg} : 2 = ?$$

A. 4 g

B. 3 kg

 C. 4 kg

D. 5 kg

The background is a colorful cartoon illustration of a classroom. A teacher wearing a red and yellow striped hat and a blue shirt is standing in the center. There are several desks with yellow chairs and orange chairs. A student is visible in the background, and there are some books and papers on the desks. The overall scene is bright and cheerful.
$$3 \times 4 = ?$$

A large green checkmark is positioned to the left of the text.

**A. 12 /**

**B. 10 /**

**C. 12 *ml***

**D. 15 /**

Các miếng cá rất tươi ngon.  
Mình rất hài lòng về bữa ăn  
hôm nay.

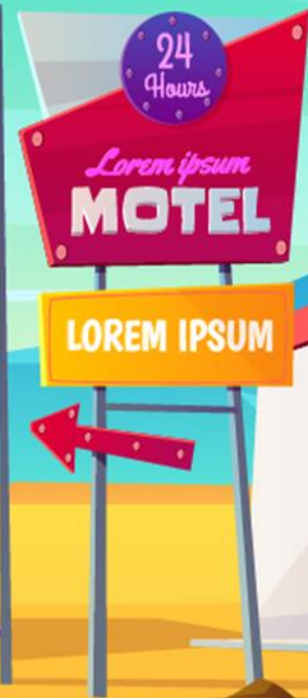
SUSHI



# TOÁN

Thứ ... ngày ... tháng ... năm ...

Số bị chia,  
Số chia, Thương



KHÁM

PHÁ





$$10 : 2 = 5$$

Mỗi lọ có 5 bông hoa.

Chia đều 10 bông hoa vào 2 lọ. Hỏi mỗi lọ có mấy bông hoa?



$$10 : 2 = 5$$

Số bị  
chia

Số  
chia

Thương

10 : 2 cũng gọi là thương.

# hoạt động








SUSHI



1 Số ?

Phép chia	$12 : 2 = 6$	$20 : 5 = 4$	$16 : 2 = 8$	$15 : 5 = 3$
Số bị chia	12			
Số chia	2			
Thương	6			



**2** a) Chọn phép tính thích hợp.

**1** Chia đều 8 chiếc bánh vào 2 hộp. Hỏi mỗi hộp có mấy chiếc bánh?

**2** Chia 10 chiếc bánh vào các hộp, mỗi hộp 2 chiếc. Hỏi được mấy hộp bánh như vậy?

(A)  $10 : 2 = 5$

(B)  $8 : 2 = 4$

(C)  $6 : 2 = 3$

**3** Chia đều 6 que tính thành 2 nhóm. Hỏi mỗi nhóm có mấy que tính?

b) Số ?

Phép chia	(A)	(B)	(C)
Số bị chia	10	8	6
Số chia	2	2	2
Thương	5	4	3

# Vận dụng





TRÒ CHƠI

Ăn khế  
trả vàng



Muốn ăn khế thì phải trả lời đúng những câu hỏi mà ta đưa ra.

Ăn một quả khế trả một cục vàng, may túi ba gang mang theo mà đựng.





Viết phép chia biết:  
số bị chia là 6, số chia là 2,  
thương là 3

$$6 : 2 = 3$$

# DẶN DÒ



GV ĐIỀN VÀO ĐÂY



GV ĐIỀN VÀO ĐÂY



GV ĐIỀN VÀO ĐÂY



GV ĐIỀN VÀO ĐÂY



# TẠM BIỆT VÀ HẸN GẶP LẠI

