

KHỞI ĐỘNG



XÂY NHÀ CHO THỎ



- 01
- 02
- 03



1. Kết quả của phép nhân $2 \times 6 = ?$



12

26



8



62



$$2. 16 : 2 = ?$$



7



8



6



9



$$20 : 2 = ?$$



9

8



10



7



Thứ ngày ... tháng .. năm



TOÁN

Bài 43: BẢNG CHIA 2

(Tiết 2)





luyện tập

1

Số ?

a)

Thừa số	2	2	2	2	2	2
Thừa số	4	6	5	8	9	10
Tích	8	12	10	16	18	20

b)

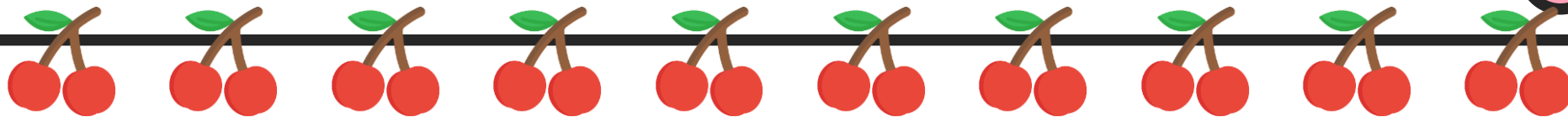
Số bị chia	8	6	16	20	14	18
Số chia	2	2	2	2	2	2
Thương	4	3	8	10	7	9



luyện tập

2

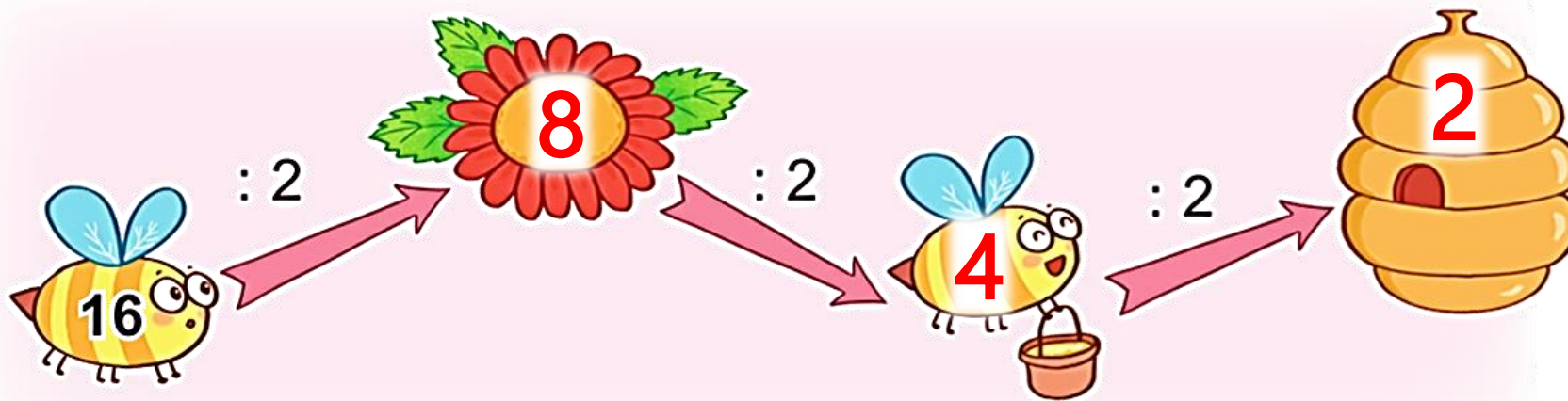
Số ?



a)



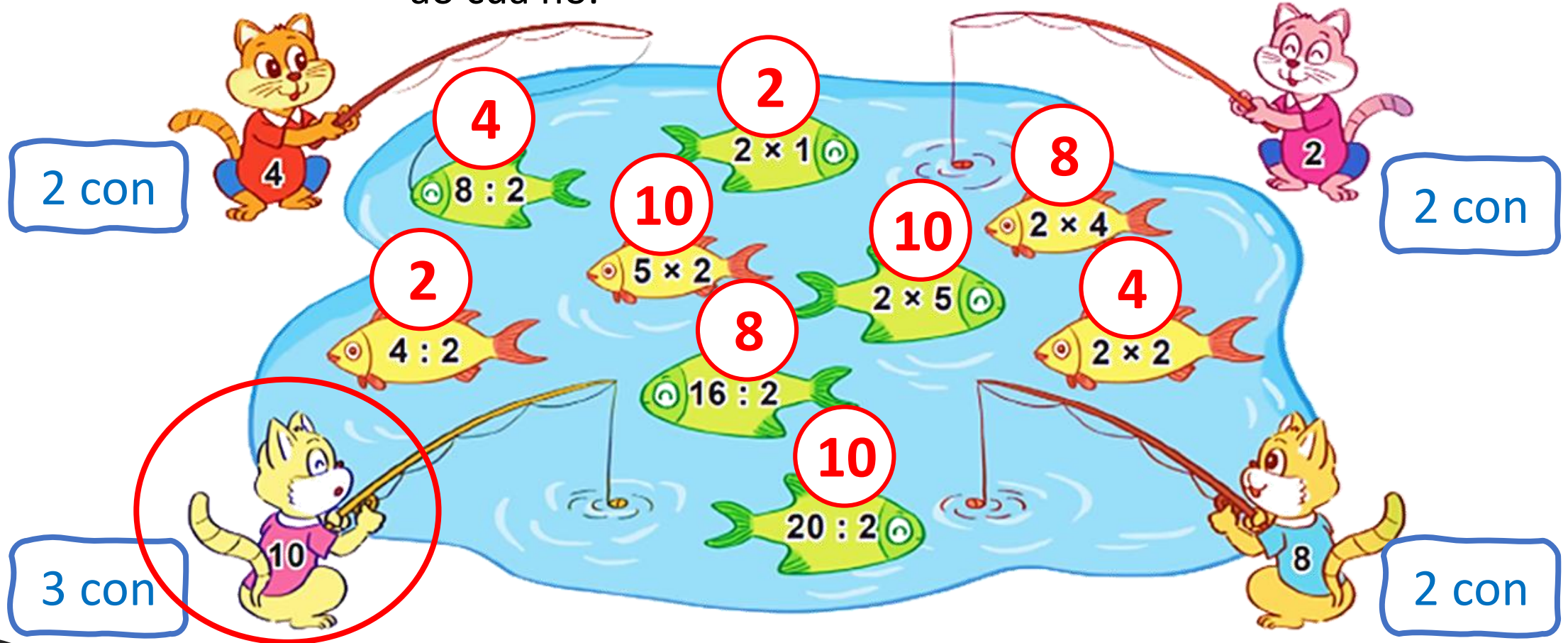
b)





luyện tập

3 Mèo câu được các con cá ghi phép tính có kết quả là số trên áo của nó.



a) Mỗi con mèo câu được bao nhiêu con cá?

b) Con mèo nào câu được nhiều cá nhất?



Vào bữa cơm gia đình, Mai lấy đĩa cho cả nhà. Mai lấy 12 chiếc đĩa chia thành các đôi thì vừa đủ mỗi người một đôi. Hỏi gia đình Mai có mấy người?

Hỏi gia đình Mai có mấy người?



Bài toán hỏi gì?





Vào bữa cơm gia đình, Mai lấy dĩa cho cả nhà. Mai lấy 12 chiếc dĩa chia thành các đôi thì vừa đủ mỗi người một đôi. Hỏi gia đình Mai có mấy người?





Bài giải

Mỗi đôi dĩa có 2 chiếc dĩa.

Gia đình Mai có số người là:

$$12 : 2 = 6 \text{ (người)}$$

Đáp số: 6 người.





Nhanh tay nhận những phần bánh thơm ngon bằng cách trả lời đúng các câu hỏi sau đây nhé!






$$14 : 2 = ?$$

A

7



B

8



2


$$20 : 2 = ?$$

A

9

B

10



3

$$8 : 2 = ?$$



A

5

B

4





Tạm biệt và hẹn gặp lại

