

KHỞI ĐỘNG



FOOTBALL GAME

Với mỗi câu trả lời đúng, em sẽ ghi được một bàn thắng vào lưới của thủ môn. Nếu trả lời sai, thủ môn sẽ bắt được bóng.

PLAY



Hãy nêu hai phép chia tương ứng với phép nhân sau



Vào !!!..

$$5 \times 3 = 15$$

$$15 : 3 = 5$$
$$15 : 5 = 3$$



Hãy nêu hai phép chia tương ứng với phép nhân sau



Vào !!!...

$$2 \times 4 = 8$$

$$8 : 2 = 4$$

$$8 : 4 = 2$$



Hãy nêu hai phép chia tương ứng với phép nhân sau



Vào !!!...

$$5 \times 6 = 30$$

$$30 : 5 = 6$$

$$30 : 6 = 5$$



Hãy nêu hai phép chia tương ứng với phép nhân sau



Vào !!!...

$$2 \times 7 = 14$$

$$14 : 2 = 7$$
$$14 : 7 = 2$$

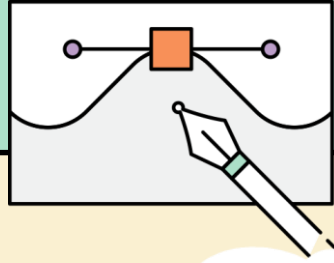





KẾT-NỐI-T.R-I-T.H-ỨC
VỚI CUỘC SỐNG



TOÁN 2





















Số bị chia, Số chia, Thương





SỐ?

PHÉP NHÂN	PHÉP CHIA	SỐ BỊ CHIA	SỐ CHIA	THƯƠNG
$2 \times 8 = 16$	$16 : 2 = 8$	16	2	8
	$16 : 8 = 2$	16	8	2
$2 \times 9 =$ 	$18 : 2 =$ 			
	$18 : 9 =$ 			
$5 \times 7 =$ 	$35 : 5 =$ 			
	$35 : 7 =$ 			





2 Tìm thương trong phép chia, biết:

a) Số bị chia là 10, số chia là 2.

Ta có: $10 : 2 = 5$

Vậy thương trong phép chia là 5.

b) Số bị chia là 8, số chia là 2.

Ta có: $8 : 2 = 4$

Vậy thương trong phép chia là 4.

c) Số bị chia là 10, số chia là 5.

Ta có: $10 : 5 = 2$

Vậy thương trong phép chia là 2.





luyện tập

3

Số ?

a) Từ ba thẻ số bên, em lập được hai phép chia sau:

$$(A) \quad 6 : 2 = 3$$

$$(B) \quad 6 : 3 = 2$$



SUSHI



SUSHI



$$(A) \quad 6 : 2 = 3$$

$$(B) \quad 6 : 3 = 2$$







b)

Phép chia	(A)	(B)
Số bị chia	6	6
Số chia	2	3
thương	3	2



luyện tập

4 Từ các số bị chia, số chia và thương dưới đây, em hãy lập các phép chia thích hợp.

Số bị chia	Số chia	Thương
		
		

$$10 : 2 = 5$$

$$15 : 5 = 3$$



Vận dụng



Trò chơi

TÌM CÀ RỐT CHO THỎ



$$27 : 3 = ?$$

A

10



C

8



B

11



D

9



20 chiếc giày là bao nhiêu đôi giày?

A 8 ❌

C 40 ❌

B 10 ✅

D 8 ❌



TẠM BIỆT

