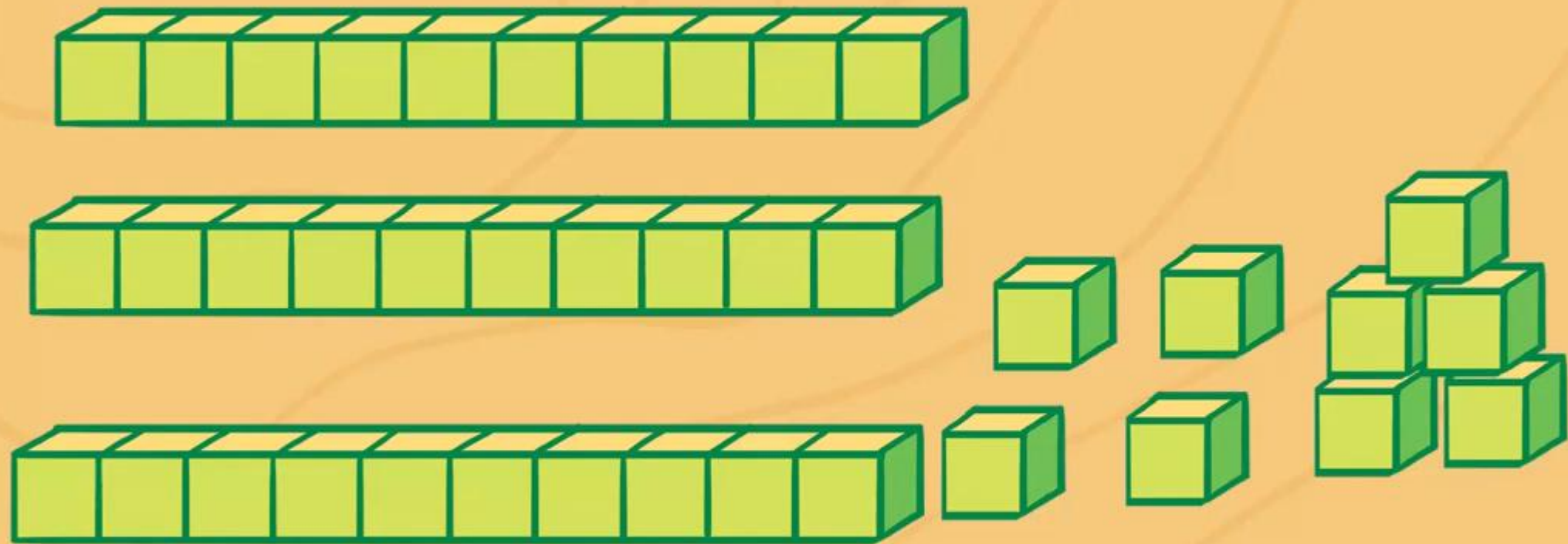
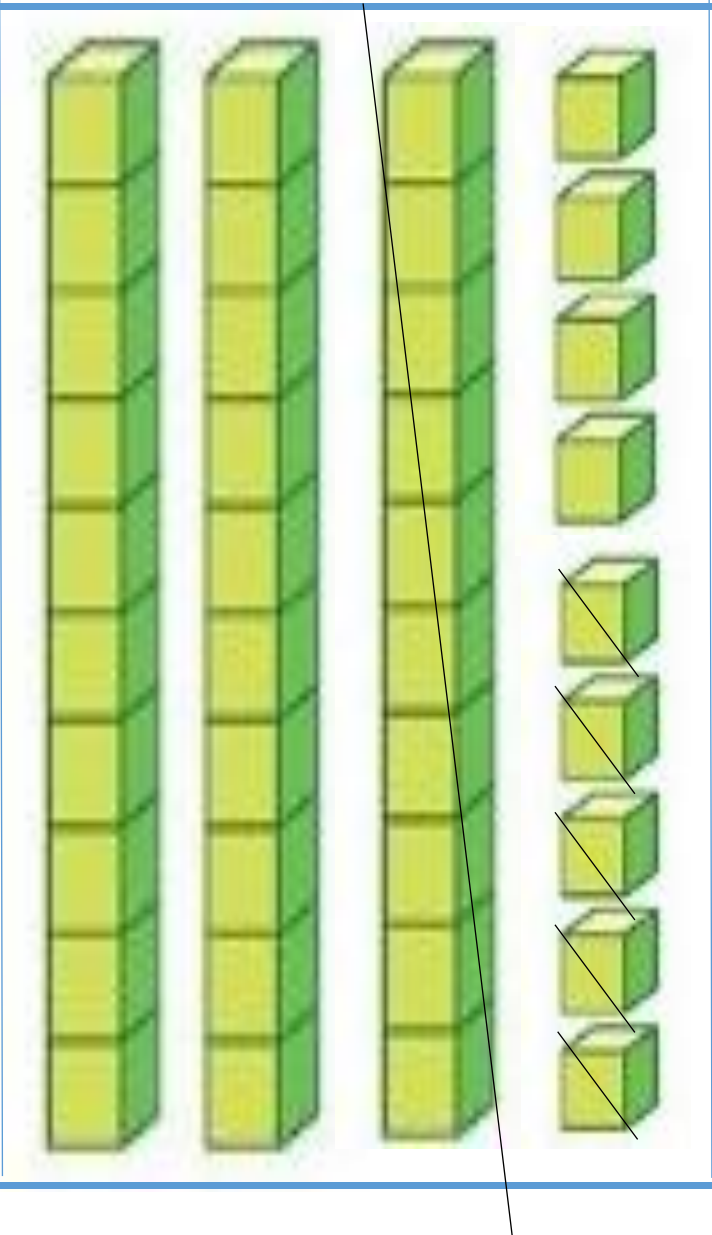




MÔN TOÁN
PHÉP TRỪ DẠNG 39 - 15
(TIẾT 1)

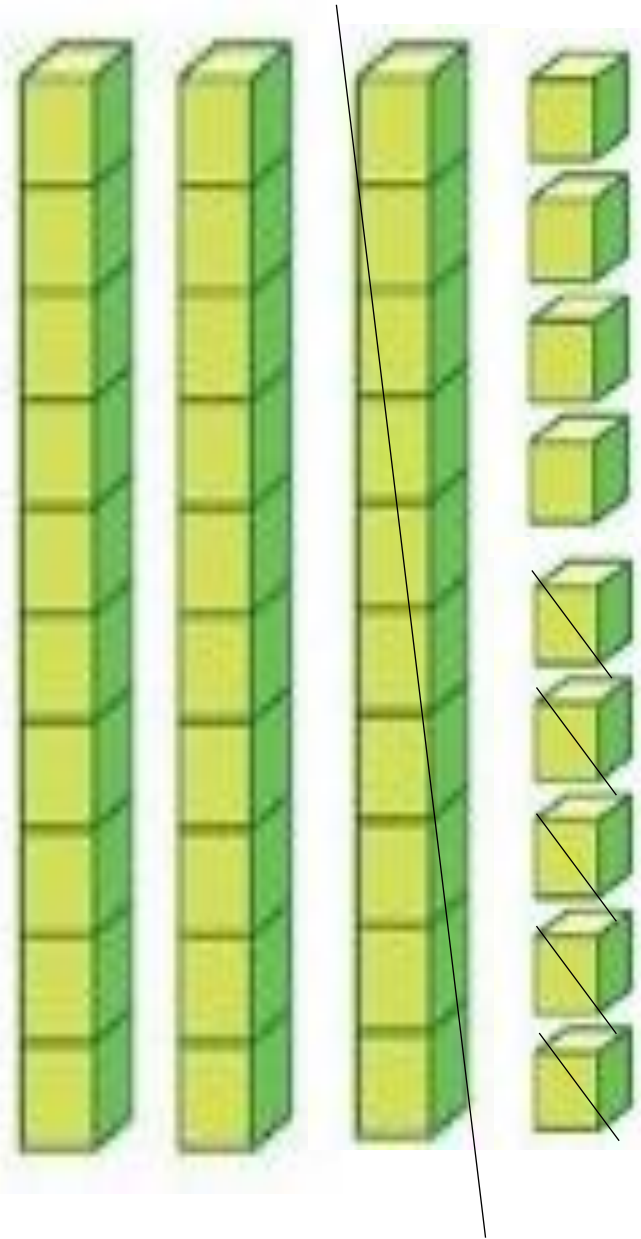


Quan sát tranh, lập đề toán



Có 39 khối lập phương, bớt đi 15 khối lập phương. Hỏi còn lại bao nhiêu khối lập phương?

$$39 - 15 = ?$$



$$39 - 15 =$$

chục	đơn vị
3	9
- 1	5
2	4

$$\begin{array}{r} \hline 39 \end{array}$$

. 9 trừ 5 bằng 4,
viết 4

. 3 trừ 1 bằng 2,
viết 2

Vậy: $39 - 15 = 24$

$$39 - 15 = 24$$

1**Tính:**

$$\begin{array}{r} - 27 \\ 14 \\ \hline ?? \end{array}$$

$$\begin{array}{r} - 54 \\ 13 \\ \hline ?? \end{array}$$

$$\begin{array}{r} - 39 \\ 12 \\ \hline ?? \end{array}$$

$$\begin{array}{r} - 65 \\ 61 \\ \hline ?? \end{array}$$

Nhớ viết kết quả
thẳng cột



2 Đặt tính rồi tính:


$$42 - 31$$


$$35 - 23$$


$$87 - 26$$


$$59 - 49$$

3 Chọn kết quả đúng với mỗi phép tính:



- 4 Tủ sách lớp 1A có 68 quyển sách, cô giáo đã cho mượn 15 quyển.
Hỏi tủ sách lớp 1A còn lại bao nhiêu quyển sách?

Phép tính:

$$\boxed{?} \text{ (?) } \boxed{?} = \boxed{?}$$

Trả lời:

Tủ sách lớp 1A còn lại quyển sách.





Thư giãn



Trò chơi



$$43 + 6 =$$



$$31 + 8 =$$



1 Tính:

$$\begin{array}{r} + 22 \\ 5 \\ \hline ?? \end{array}$$

$$\begin{array}{r} + 36 \\ 3 \\ \hline ?? \end{array}$$

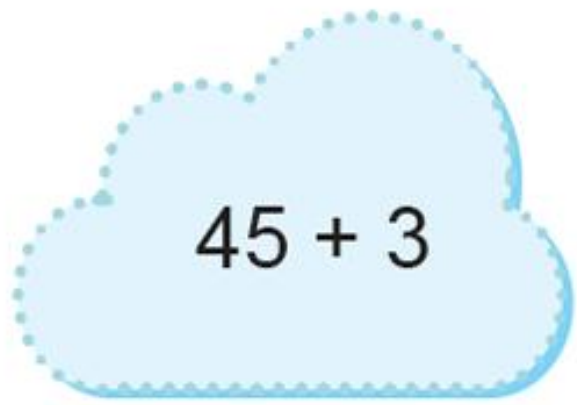
$$\begin{array}{r} + 41 \\ 5 \\ \hline ?? \end{array}$$

$$\begin{array}{r} + 64 \\ 4 \\ \hline ?? \end{array}$$

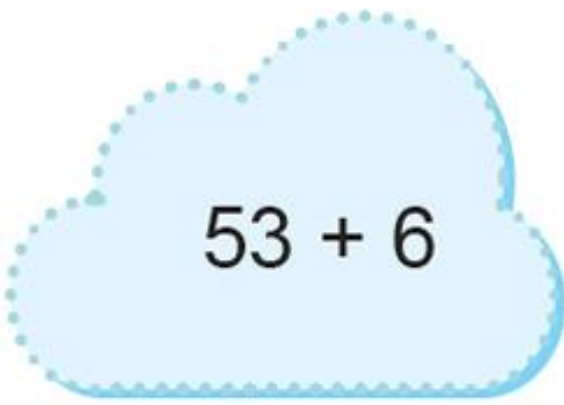
Nhớ viết kết quả thẳng cột



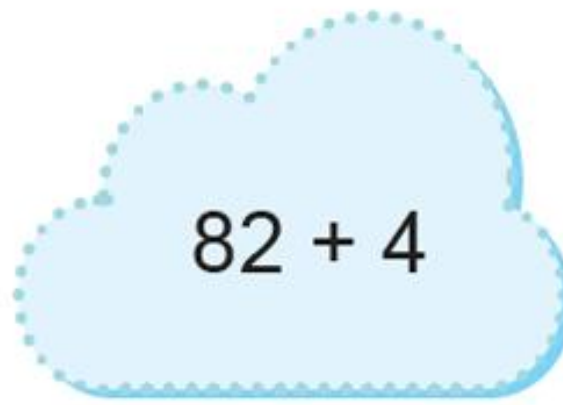
2 Đặt tính rồi tính:



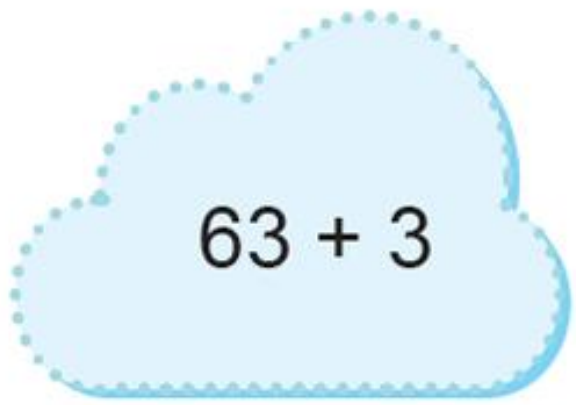
$45 + 3$



$53 + 6$



$82 + 4$



$63 + 3$

DẶN DÒ



Chúc các con
luôn chăm ngoan
và học giỏi !

