

BÀI GIẢNG ĐIỆN TỬ

CHÀO CÁC EM HỌC SINH THÂN YÊU!

MÔN: TOÁN

các em chăm ngoan học giỏi, là chủ nhân tương lai của đất nước

B

KIỂM TRA BÀI CŨ.

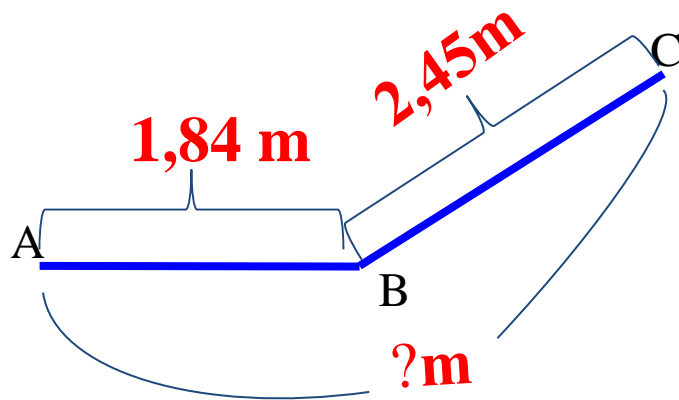
Viết số thích hợp vào chỗ chấm:

$$2,45\text{m} = \dots \text{cm}$$

$$1,84 \text{ m} = \dots \text{cm}$$

a) Ví dụ 1:

Đường gấp khúc ABC có đoạn thẳng AB dài 1,84m và đoạn thẳng BC dài 2,45m. Hỏi đường gấp khúc đó dài bao nhiêu mét?



Ta phải thực hiện phép cộng:

$$1,84 + 2,45 = ? \text{ (m)}$$

Ta có: $1,84 \text{ m} = 184 \text{ cm}$

$$2,45 \text{ m} = 245 \text{ cm}$$

$$\begin{array}{r} + 184 \\ 245 \\ \hline 429 \text{ (cm)} \end{array}$$

$$429 \text{ cm} = 4,29 \text{ m}$$

Vậy: $1,84 + 2,45 = 4,29 \text{ (m)}$

Thông thường ta đặt tính rồi làm như sau:

$$\begin{array}{r} 1,84 \\ + 2,45 \\ \hline 4,29 \text{ (m)} \end{array}$$

*** Thực hiện phép cộng như cộng các số tự nhiên.**

*** Viết dấu phẩy ở tổng thẳng cột với các dấu phẩy của các số hạng.**

$$\begin{array}{r} + 184 \\ + 245 \\ \hline 429 \end{array}$$

và

$$\begin{array}{r} + 1,84 \\ + 2,45 \\ \hline 4,29 \end{array}$$

B

b) Ví dụ 2: $15,9 + 8,75 = ?$

Ta đặt tính rồi làm như sau:

$$\begin{array}{r} 15,9 \\ + 8,75 \\ \hline 24,65 \end{array}$$

- Thực hiện phép cộng như cộng số tự nhiên.
- Viết dấu phẩy ở tổng thẳng cột với các dấu phẩy của các số hạng.

Trò chơi :

“Ai nhanh - Ai đúng”

Phép tính đúng thì ghi **Đ**, phép tính sai thì ghi **S**

$$\begin{array}{r} 0,995 \\ + 0,868 \\ \hline 1,863 \end{array}$$

Trò chơi :

“Ai nhanh - Ai đúng”

Phép tính đúng thì ghi **Đ**, phép tính sai thì ghi **S**


0,995

+

0,868

1,863

Đ



Trò chơi :

“Ai nhanh - Ai đúng”

Phép tính đúng thì ghi **Đ**, phép tính sai thì ghi **S**

$$\begin{array}{r} 75,8 \\ + \\ 249,19 \\ \hline 1007,19 \end{array}$$




Trò chơi :

“Ai nhanh - Ai đúng”

Phép tính đúng thì ghi **Đ**, phép tính sai thì ghi **S**

$$\begin{array}{r} 75,8 \\ + 249,19 \\ \hline 1007,19 \end{array} \quad \boxed{\text{S}}$$



Trò chơi :

“Ai nhanh - Ai đúng”

Phép tính đúng thì ghi **Đ**, phép tính sai thì ghi **S**

$$\begin{array}{r} 75,8 \\ + \\ 249,19 \\ \hline 324,99 \end{array}$$

Trò chơi :

“Ai nhanh - Ai đúng”

Phép tính đúng thì ghi **Đ**, phép tính sai thì ghi **S**

$$\begin{array}{r} 57,648 \\ + 35,37 \\ \hline 93,018 \end{array} \quad \square$$


Trò chơi :

“Ai nhanh - Ai đúng”

Phép tính đúng thì ghi **Đ**, phép tính sai thì ghi **S**

$$\begin{array}{r} 57,648 \\ + 35,37 \\ \hline 93,018 \end{array}$$

Đ





Tiết học kết thúc

