



*Các bạn nhớ "đăng kí" kênh "Thanh Tân Music" để cập nhật những video mới nhất nhé.*

SUBSCRIBE





# Trò chơi

Câu hỏi số 1 : Cách đặt tính nào đúng ?

A. 
$$\begin{array}{r} 58 \\ - 6 \\ \hline 48 \end{array}$$

**B.** 
$$\begin{array}{r} 58 \\ - 6 \\ \hline 48 \end{array}$$

C. 
$$\begin{array}{r} 58 \\ - 6 \\ \hline 48 \end{array}$$

Thời gian:

Hết

1

# Trò chơi

## AI NHANH, AI ĐÚNG

### Câu hỏi số 2

Kết quả của phép tính  $\begin{array}{r} 43 \\ - \quad \\ \hline 36 \end{array}$  là:

A. 16

B. 26

**C. 36**

Thời gian:

Hết

1

# Trò chơi

## AI NHANH, AI ĐÚNG

### Câu hỏi số 3

Chữ số thích hợp để điền vào ô trống là số nào ?

$$\begin{array}{r} 72 \\ - \\ \hline 67 \end{array}$$

A. 6

B. 7

C. 5


Thời gian:


Hết

1




**3** Chọn kết quả đúng với mỗi phép tính:





3 Chọn kết quả đúng với mỗi phép tính:





# TRÒ CHƠI ONG TÌM HOA

**HẾT GIỜ**



