





**TRƯỜNG TIỂU HỌC ĐẠI HÀ**

**CHÀO MỪNG CÁC THẦY CÔ ĐẾN DỰ LỚP 2A**

**GIÁO VIÊN: LƯU THỊ MAI**





# KHỞI ĐỘNG







**TRÒ CHƠI:**

**“AI NHANH, AI ĐÚNG”**



# Trò chơi

**Ai nhanh, ai đúng**




**Câu hỏi số 1** : Kết quả của phép tính  $15\text{ l} + 6\text{ l} = ?$

A.  $20\text{ l}$

**B.  $21\text{ l}$**

C.  $22\text{ l}$



**Thời gian:**

**HỒ 1**





# Trò chơi

## Ai nhanh, ai đúng


### Câu hỏi số 2

Kết quả của phép tính  $12\text{ l} - 3\text{ l} - 6\text{ l} = ?$

A. 13

B. 3

C. 3 l



Thời gian:

HỒ 1



# Trò chơi

## Ai nhanh, ai đúng

### Câu hỏi số 3



Chữ số thích hợp để điền vào ô trống là số nào ?

$$25 \text{ l} + \dots = 32 \text{ l}$$

**A.** 7 l

**B.** 8 l

**C.** 9 l



Thời gian:

HỒ **1**





4

Chọn thẻ ghi số thích hợp với mỗi đồ vật:

3 l

1 l

10 l

50 l

