

TRƯỜNG TIỂU HỌC ĐẠI HÀ

CHÀO MỪNG CÁC THẦY CÔ GIÁO

về dự giờ
lớp 5A

Môn: TOÁN

GV dạy: Nguyễn Thị Sâm


1. Viết phân số chỉ phần tô đậm của hình dưới đây :



$$\frac{3}{10}$$



$$\frac{8}{10}$$



$$\frac{57}{100}$$


1. Viết phân số chỉ phần tô đậm của hình dưới đây:



$$\frac{3}{10}$$



$$\frac{8}{10}$$



$$\frac{57}{100}$$

2. Viết số thích hợp vào ô trống là:

$$\frac{1}{125} = \frac{1 \times \boxed{8}}{125 \times \boxed{8}} = \frac{8}{1000}$$



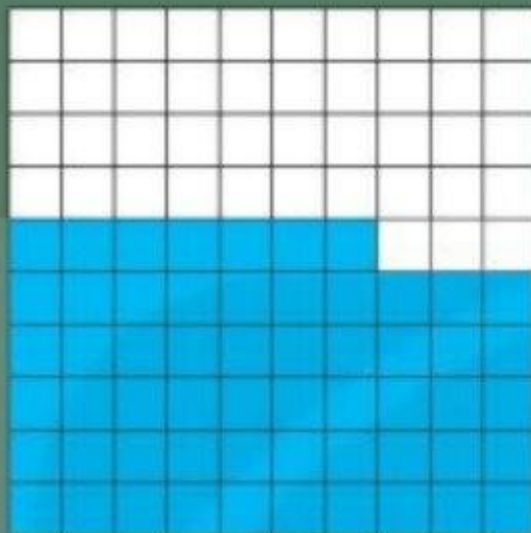
Đây là các phân số chỉ phần đã tô màu của mỗi hình.



$$\frac{3}{10}$$



$$\frac{8}{10}$$



$$\frac{57}{100}$$

Các phân số này có mẫu số là 10, 100.



• $\frac{3}{10}$; $\frac{8}{10}$; $\frac{57}{100}$ là những phân số thập phân.

• $\frac{15}{10}$; $\frac{126}{100}$; $\frac{351}{1\ 000}$; $\frac{1\ 537}{1\ 000}$; ... cũng là những phân số thập phân.

• Phân số thập phân là phân số có mẫu số là 10 ; 100 ; 1000 ; ...

Em hãy cho một vài ví dụ về phân số thập phân



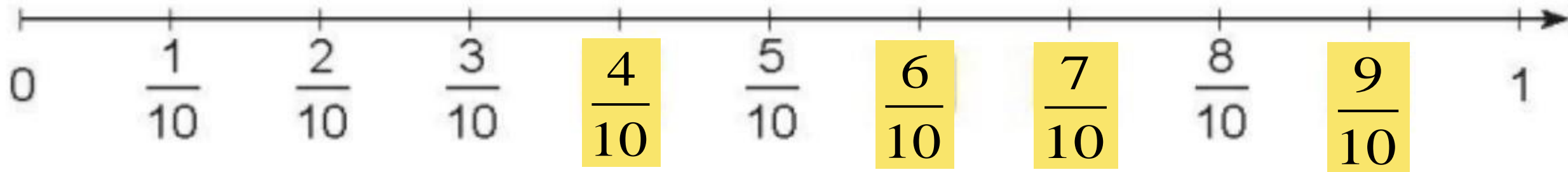


1 Các phân số nào dưới đây là phân số thập phân?

$$\frac{7}{10}, \frac{9}{20}, \frac{63}{100}, \frac{100}{59}, \frac{178}{100}, \frac{16}{1\ 000}, \frac{365}{1\ 000}$$

2 Tìm Phân số thập phân thích hợp.

a)



b)

