

Trường Tiểu học Đại Hà

**CHÀO MỪNG**

**THẦY, CÔ GIÁO ĐẾN DỰ GIỜ**

*Môn : Toán – Lớp 1C*



Skids



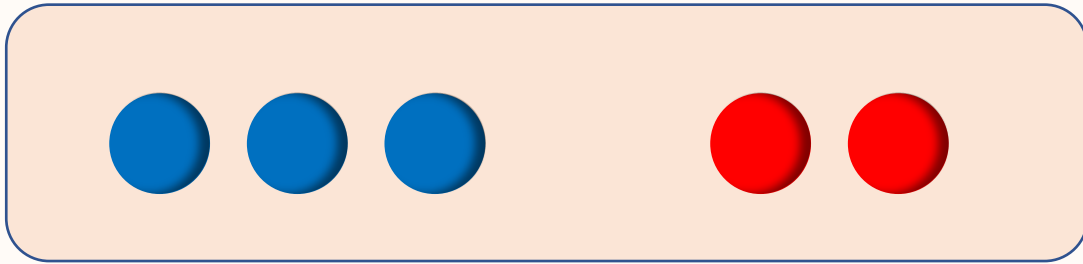
N2





HÌNH THÀNH  
KIẾN THỨC





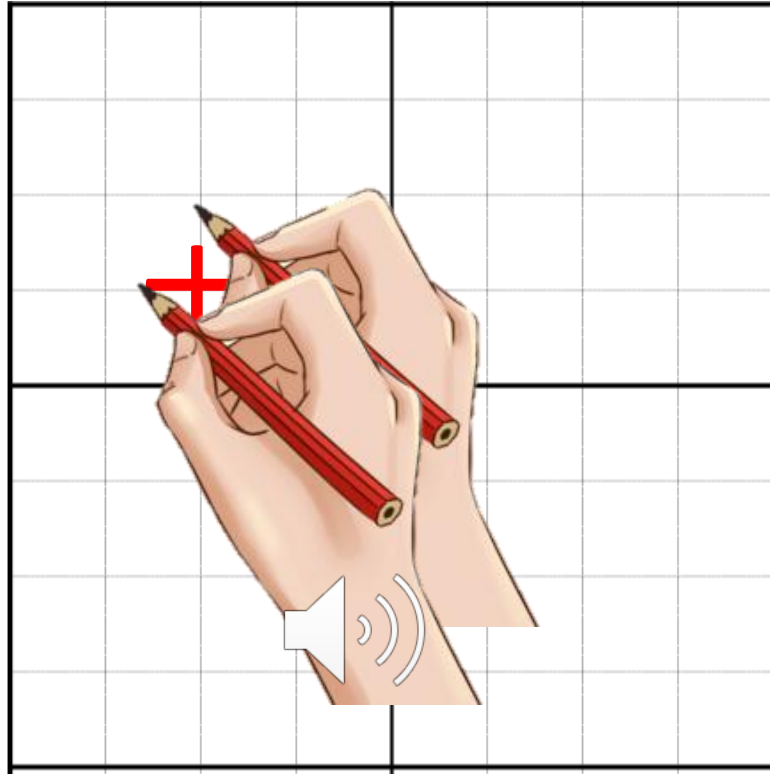
$$3 + 2 = 5$$

Dấu cộng

**Ba cộng hai bằng năm.**



# DẤU CỘNG

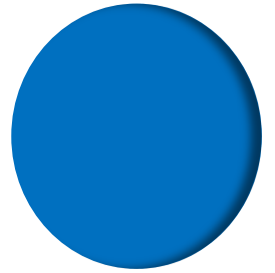








B

Đ

CÙNG CÓ KIẾN THỨC MỚI



$$1 + 4 = 5$$








**Bài 1:**

**Bài 2:**

**Bài 3:**

**a, Xem tranh rồi viết phép tính thích hợp:**



$$\boxed{2} + \boxed{3} = \boxed{5}$$

**b, Tập kể chuyện theo phép tính đã viết.**





**VẬN DỤNG**



# RUNG CHUÔNG VÀNG



(Gõ phím **ENTER** để xem đáp án)

# RUNG CHUÔNG VÀNG




$1 + 1 = ?$




1



2



3



(Gõ phím ENTER để xem đáp án)

# RUNG CHUÔNG VÀNG

Câu 2



$$2 + 1 = ?$$

A

2

B

4

C


3

10





# Rung chuông vàng



$$3 + 1 = ?$$




4



5




6



# RUNG CHUÔNG VÀNG




  $1 + 4 = ?$



6



5



4







Lìn chân thành

cảm ơn các thầy cô giáo và các  
em học sinh lớp 1C!

