

Chủ đề, mạch kiến thức		Số câu, số điểm, câu số	Mức 1		Mức 2		Mức 3		Tổng cộng	
			<i>Nhận biết</i>		<i>Thông hiểu</i>		<i>Vận dụng</i>		TN	TL
			TN	TL	TN	TL	TN	TL		
Số học	Các số đến 10	Số câu	1/2	1	1/2				1	1
		Số điểm	0,5	1	0,5				1,0	1,0
		Câu số	1	4	1					
	Cộng trừ trong phạm vi 10	Số câu	1/2	1	1/2	1		1	1	3
		Số điểm	0,5	1	0,5	1,5		1,5	1,0	4,0
		Câu số	2	5	2	6		8		
Yếu tố hình học		Số câu			1/2		1/2		1	
		Số điểm			0,5		0,5		1,0	
		Câu số			3		3			
Yếu tố liên quan giải toán có lời văn. ( <i>Quan sát tranh và viết phép tính thích hợp</i> )		Số câu				1				1
		Số điểm				2				2,0
		Câu số				7				
Tổng		Số câu	1	2	1,5	2	0,5	1	3	5
		Số điểm	1	2	1,5	3, 5	0,5	1,5	3	7
		Tỉ lệ	30%		50%		20%		100%	

UBND XÃ KIẾN THỤY  
TRƯỜNG TIỂU HỌC THUẬN THIÊN

**BÀI KIỂM TRA CUỐI HỌC KÌ I**  
**MÔN TOÁN LỚP 1**

**Năm học: 2025 – 2026**

Họ và tên.....

Thời gian 50 phút (không kể giao đề)

Lớp : .....

Điểm	Nhận xét của giáo viên

**I. TRẮC NGHIỆM: (3 điểm)**

**Khoanh vào chữ cái đặt trước câu trả lời đúng:**

**Câu 1:**

**a) M1 (0,5 điểm):** Số nhỏ nhất trong các số 3, 5, 9, 7 là:

- A. 3                      B. 9                      C. 5                      D. 7

**b) M2 ( 0,5 điểm ):** Các số **9, 0, 6, 5** được xếp theo thứ tự từ bé đến lớn là:

- A. 9.6.5.0              B. 0,5,6,9              C. 0, 9,6,5              D. 0, 5, 6 9

**Câu 2 :**

**a) M1 (0,5 điểm):** Kết quả của phép tính **7 + 3** là:

- A. 8                      B. 10                      C. 4                      D. 7

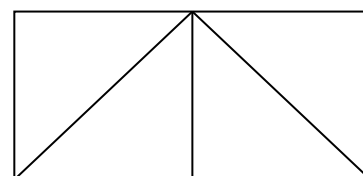
**b) M2 (0,5 điểm):** Cho phép tính: **9 - ..... = 3**. Số điền vào chỗ chấm là:

- A. 5                      B. 4                      C. 6                      D. 4

**Câu 3:**

**a) M2 (0,5 điểm):** Hình vẽ bên có số hình vuông là:

- A. 1              B. 3              C. 2              D. 5



**b) M3 (0,5 điểm):** Hình vẽ bên có số hình tam giác là:

- A. 4              B. 5              C. 6              D. 3

**II. TỰ LUẬN: (7 điểm)**

**Câu 4: M1 (1 điểm):** Điền dấu  $>$ ,  $<$ ,  $=$  thích hợp chỗ chấm:

$7 \dots\dots 10$

$7 \dots\dots 5$

$4 \dots\dots 4$

$3 \dots\dots 9$

**Câu 5 : M1 (1 điểm) Tính:**

$7 + 3 = \dots\dots$

$10 - 8 = \dots\dots$

$0 + 2 = \dots\dots$

$10 - 10 = \dots\dots$

**Câu 6 : M2 (1,5 điểm) Tính:**



$3 + 5 - 4 = \dots\dots$

$6 - 0 - 1 = \dots\dots$

$4 + 5 + 0 = \dots\dots$

**Câu 7.** Quan sát tranh và viết phép tính thích hợp vào ô trống: (2 điểm) **M2**

--	--	--	--	--



--	--	--	--	--

**Câu 8: M3 (1,5 điểm)** Điền số thích hợp vào chỗ chấm:

$8 + 2 - \dots\dots = 10$

$6 - 5 > \dots\dots - 3$

$\dots\dots + 1 = 2 + 6$

UBND XÃ KIẾN THUY  
TRƯỜNG TIỂU HỌC THUẬN THIÊN

**ĐÁP ÁN VÀ HƯỚNG DẪN CHẤM KIỂM TRA CUỐI HỌC KÌ I  
MÔN TOÁN LỚP 1  
NĂM HỌC 2025 - 2026**

Câu	1		2		3	
Đáp án	a. B	b. C	a. A	b. D	a. B	b. C
Điểm	0.5	0.5	0.5	0.5	0.5	0.5

**Câu 4: M1 (1 điểm): Điền dấu > , < , = thích hợp chỗ chấm:**

$$10 > 8$$

$$5 < 7$$

$$7 = 7$$

$$6 > 4$$

**Câu 5 : M1 (1 điểm) Tính:**

$$7 + 3 = 10$$

$$10 - 5 = 5$$

$$0 + 6 = 6$$

$$7 - 7 = 0$$

**Câu 6 : M2 (1,5 điểm) Tính:**

$$5 + 3 - 2 = 6$$

$$7 - 0 - 1 = 6$$

$$5 + 3 + 0 = 8$$

**Câu 7: M 2 (2 điểm): Quan sát hình vẽ viết các phép tính thích hợp?**

**Câu 7 M2 (2 điểm) Viết đúng mỗi phép tính được 1 điểm**

2	+	3	=	5
---	---	---	---	---

6	-	2	=	4
---	---	---	---	---

**Câu 8: M3 (1,5 điểm) Điền số thích hợp vào chỗ chấm:**

$$8 + 2 - 0 = 10$$

$$7 - 6 > 4 - 4$$

$$8 + 1 = 3 + 6$$

