

KHỞI ĐỘNG





CHUN CHIN






KẾT NỐI TRI THỨC
VỚI CUỘC SỐNG


TOÁN

**Bài 45: Các số có bốn chữ số.
Số 10 000**







**TRANG TRẠI VUI
NHỘN**



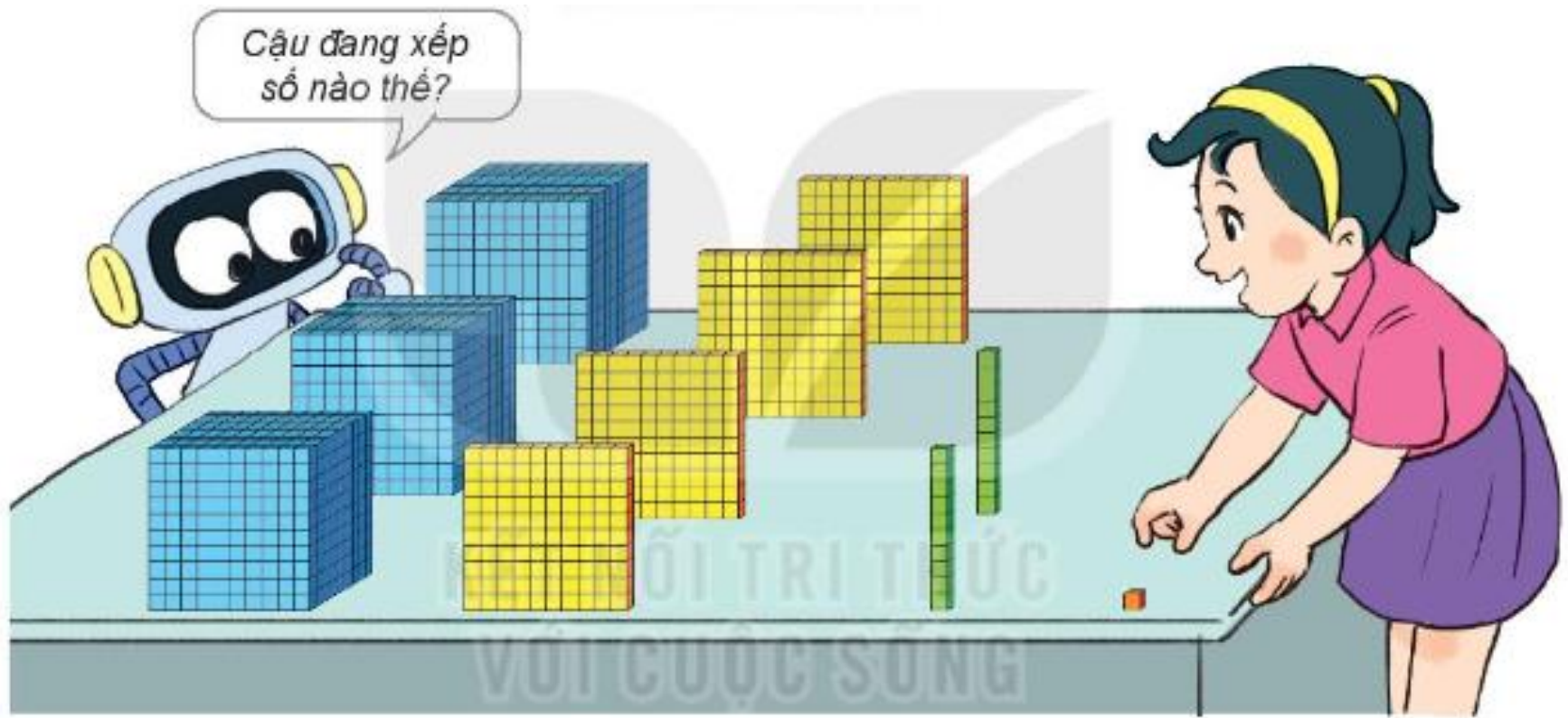
*Chào các bạn đã
đến với trang trại
của mình. Chúng ta
hãy cùng thực hiện
công việc nhé!*






Số có bốn chữ số

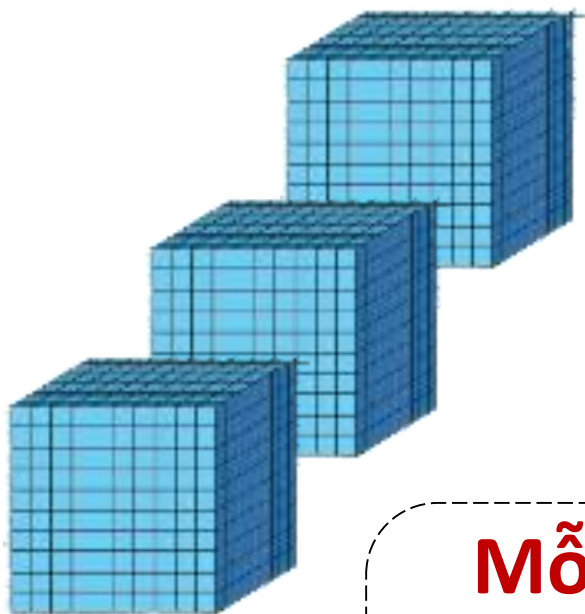
Cậu đang xếp
số nào thế?





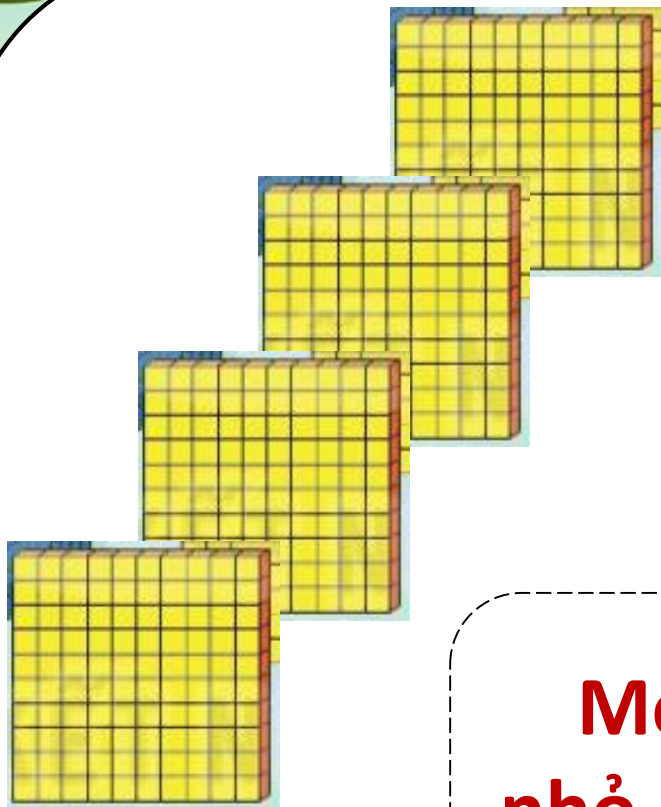
**Khối lập phương gồm 10 tấm
ghép lại, mỗi tấm có 100 khối
lập phương nhỏ. Vậy khối lập
phương lớn là 1000 khối lập
phương nhỏ.**





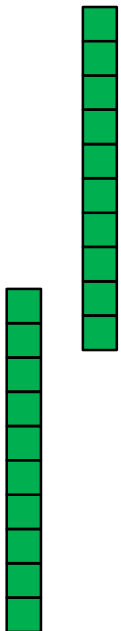
Mỗi khối lập phương lớn có 1 000 khối lập phương nhỏ, nhóm thứ nhất có 3 khối như thế. Vậy có 3 000 khối lập phương nhỏ.





Mỗi tấm có 100 khối lập phương nhỏ, nhóm thứ hai có 4 tấm như thế. Vậy có 400 khối lập phương nhỏ.





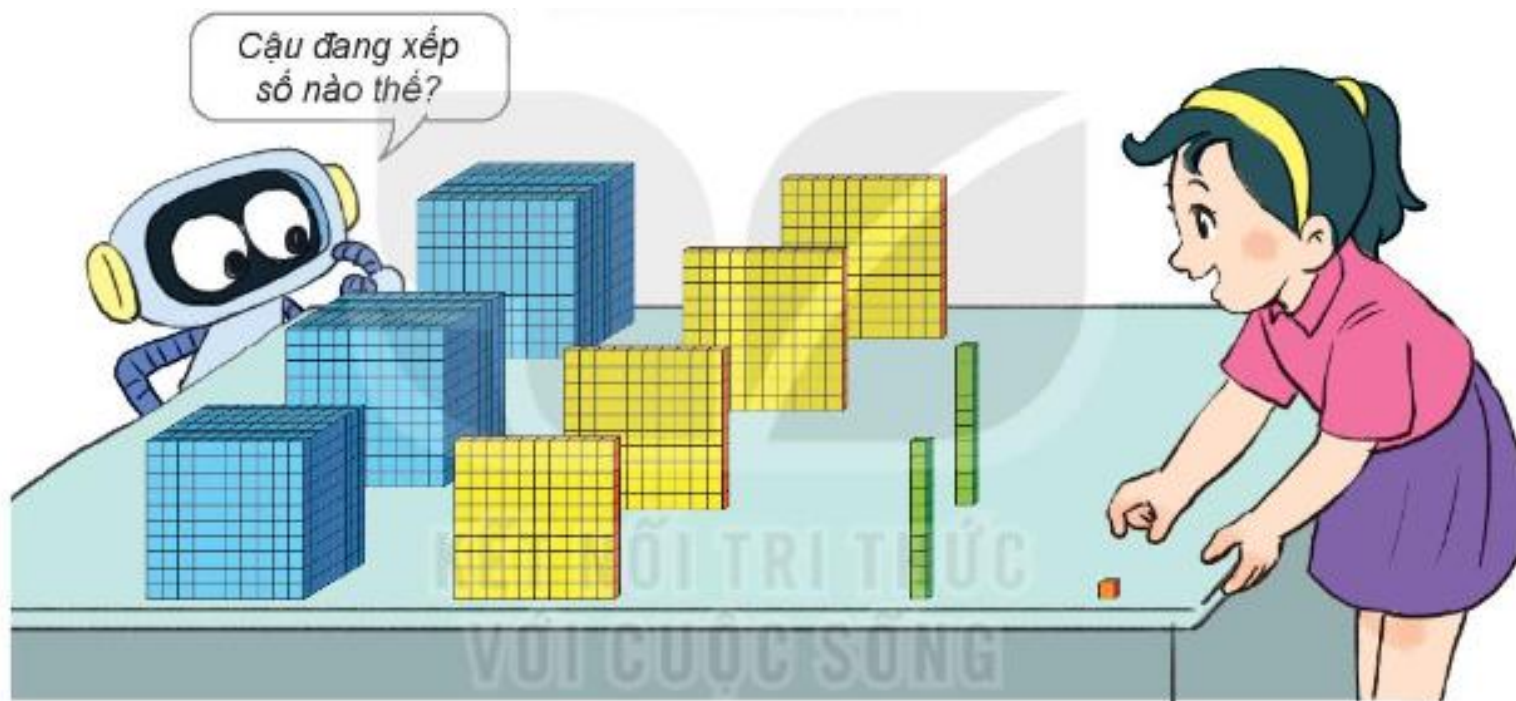
Nhóm thứ 3 có 2 thanh, mỗi thanh 10 khối lập phương nhỏ. Vậy có 20 khối lập phương nhỏ.





**Nhóm thứ 4, có 1 khối lập
phương nhỏ**





**Như vậy hình vẽ có 3000, 400, 20
và 1 khối lập phương nhỏ**



| Hàng nghìn | Hàng trăm | Hàng chục | Hàng đơn vị |
|------------|-----------|-----------|-------------|
| 1 000 | 100 | | |
| 1 000 | 100 | | |
| 1 000 | 100 | 10 | |
| | 100 | 10 | 1 |
| 3 | 4 | 2 | 1 |

Số gồm: 3 nghìn, 4 trăm, 2 chục và 1 đơn vị

Viết là: 3 421. Đọc là: Ba nghìn bốn trăm hai mươi một

**Hoạt
động**





**Cùng chăm sóc
Cà rốt giúp
bác nhé!**

1 Chọn số thích hợp với cách đọc

Ba nghìn sáu trăm
bảy mươi tư



A

Ba nghìn
không trăm
sáu mươi bảy



B

Bốn nghìn
không trăm
linh bảy



C

Tám nghìn
sáu trăm
bốn mươi



D



E



G



H



K



Ba nghìn sáu trăm
bảy mươi tư



A

Ba nghìn
không trăm
sáu mươi bảy



B

Bốn nghìn
không trăm
linh bảy



C

Tám nghìn
sáu trăm
bốn mươi



D



E



G

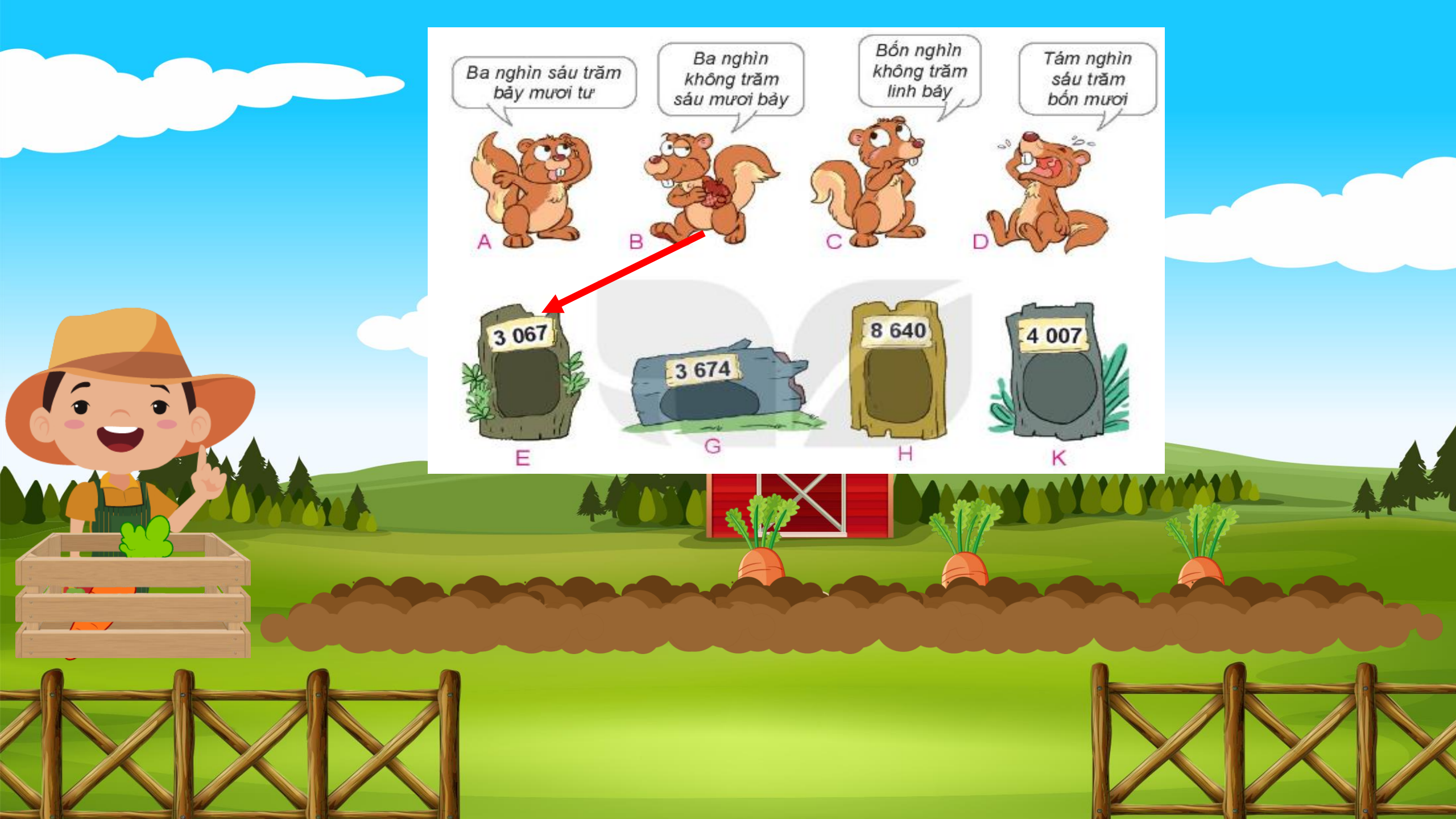


H



K





Ba nghìn sáu trăm bảy mươi tư



A

Ba nghìn không trăm sáu mươi bảy



B

Bốn nghìn không trăm linh bảy



C

Tám nghìn sáu trăm bốn mươi



D

3 067



E

3 674



G

8 640



H

4 007



K



Ba nghìn sáu trăm bảy mươi tư

Ba nghìn không trăm sáu mươi bảy

Bốn nghìn không trăm linh bảy

Tám nghìn sáu trăm bốn mươi

A B C D

E G H K

3 067

3 674

8 640

4 007



Ba nghìn sáu trăm bảy mươi tư

Ba nghìn không trăm sáu mươi bảy

Bốn nghìn không trăm linh bảy

Tám nghìn sáu trăm bốn mươi



**Tiếp theo, các bạn cùng mình đi
thăm ao nuôi vịt của trang trại nhé!**



2. SỐ

a)

2 967

2 968

2 969

2 970

2 971

2 972

2 973

2 974

2 975



2. SỐ

b)

4 998

4 999

5 000

5 001


5 002


5 003

5 004

5 005

5 006





**Các bạn giỏi quá!
Cùng tham quan
tiếp khu vườn may
mắn của Bác nhé!**

Lucky garden




Các bạn hãy hoàn thành bài tập để giúp trồng những cây hoa may mắn nhé!

3

Số ?

| Hàng nghìn | Hàng trăm | Hàng chục | Hàng đơn vị | Viết số | Đọc số |
|------------|-----------|-----------|-------------|--------------|---------------------------------|
| 6 | 7 | 4 | 2 | 6 742 | sáu nghìn bảy trăm bốn mươi hai |
| 5 | 6 | 3 | 0 | 5 630 | năm nghìn sáu trăm ba mươi |



Các bạn giỏi quá, giờ thì về trang trại để dọn dẹp cho bác nhé!



4

Rô – bốt viết các số tròn nghìn lên mỗi tấm biển trên đường đến tòa lâu đài (như hình vẽ). Hỏi mỗi tấm biển có dấu “?” viết số nào?

